


畫出平行四邊形的高


下面兩個平行四邊形，都是以上、下兩邊為底。
先描出高來，再用尺量量看底和高是幾公分？

1



底是_____公分，
高是_____公分。

2




底是_____公分，
高是_____公分。

畫出平行四邊形的高


下面兩個平行四邊形，都是以上、下兩邊為底。
先描出高來，再用尺量量看底和高是幾公分？

1



底是_____公分，
高是_____公分。

2

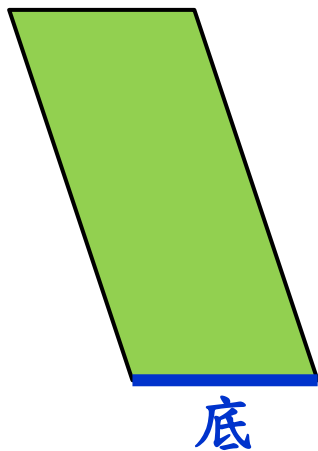


底是_____公分，
高是_____公分。

畫出平行四邊形的高


下面兩個平行四邊形，都是以上、下兩邊為底。
先描出高來，再用尺量量看底和高是幾公分？

1



底是_____公分，
高是_____公分。

2




底是_____公分，
高是_____公分。

畫出平行四邊形的高

下面兩個平行四邊形，都是以上、下兩邊為底。
先描出高來，再用尺量量看底和高是幾公分？

1



底是_____公分，
高是_____公分。

2

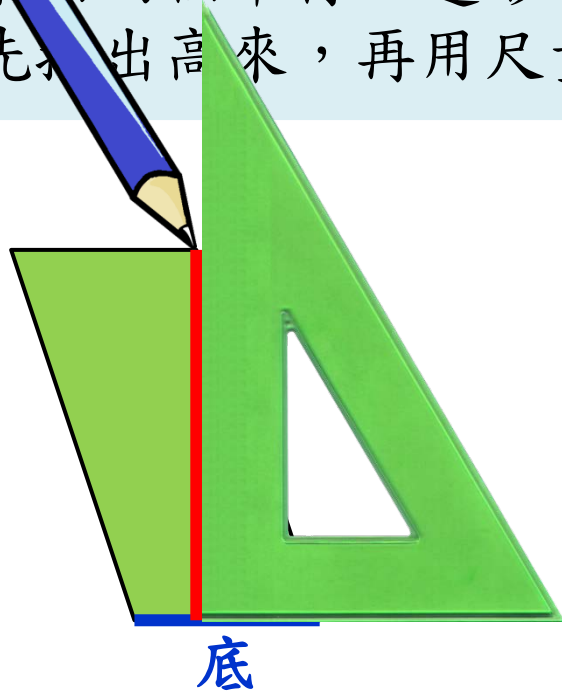


底是_____公分，
高是_____公分。

畫出平行四邊形的高

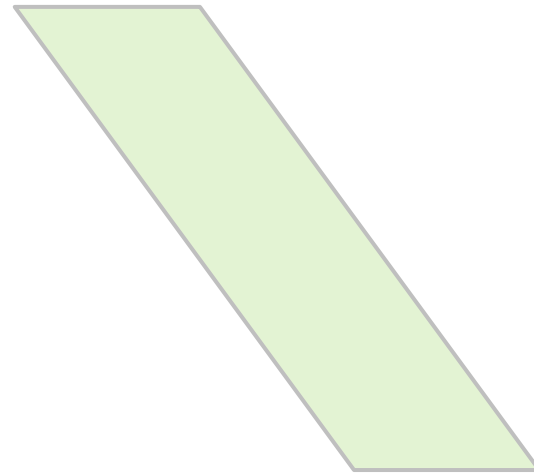
下面兩個平行四邊形，都是以上、下兩邊為底。
先畫出高來，再用尺量量看底和高是幾公分？

1



底是_____公分，
高是_____公分。

2

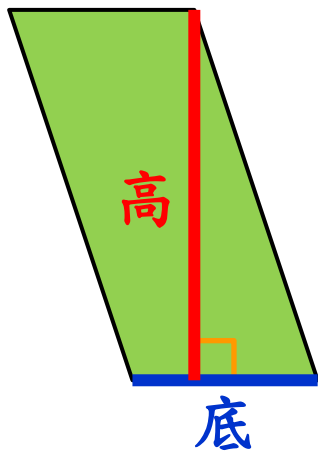


底是_____公分，
高是_____公分。

畫出平行四邊形的高


下面兩個平行四邊形，都是以上、下兩邊為底。
先描出高來，再用尺量量看底和高是幾公分？

1



底是_____公分，
高是_____公分。

2

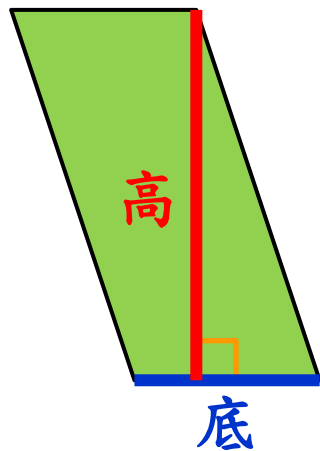


底是_____公分，
高是_____公分。

畫出平行四邊形的高


下面兩個平行四邊形，都是以上、下兩邊為底。
先描出高來，再用尺量量看底和高是幾公分？

1



底是_____公分，
高是_____公分。

2

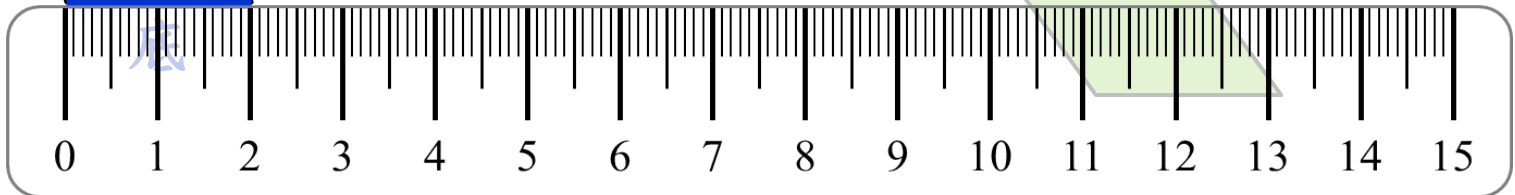
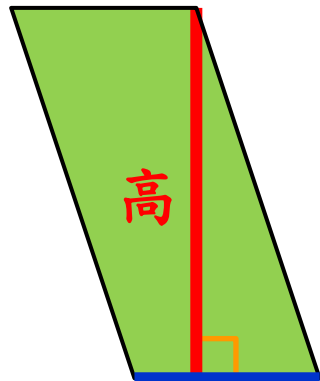


底是_____公分，
高是_____公分。

畫出平行四邊形的高

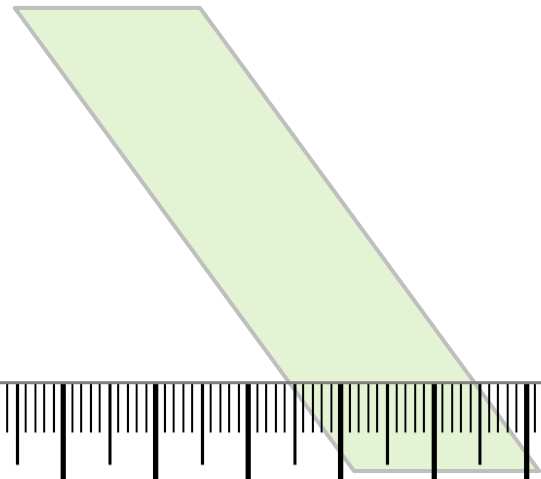
下面兩個平行四邊形，都是以上、下兩邊為底。
先描出高來，再用尺量量看底和高是幾公分？

1



底是_____公分，
高是_____公分。

2

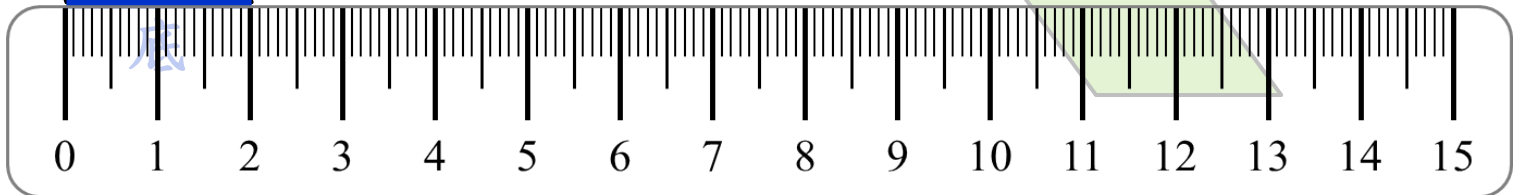
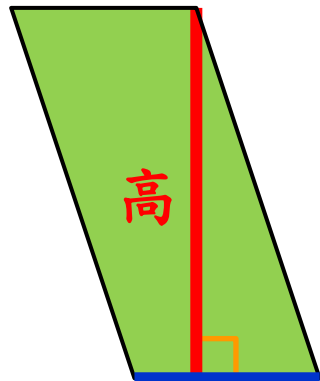


底是_____公分，
高是_____公分。

畫出平行四邊形的高

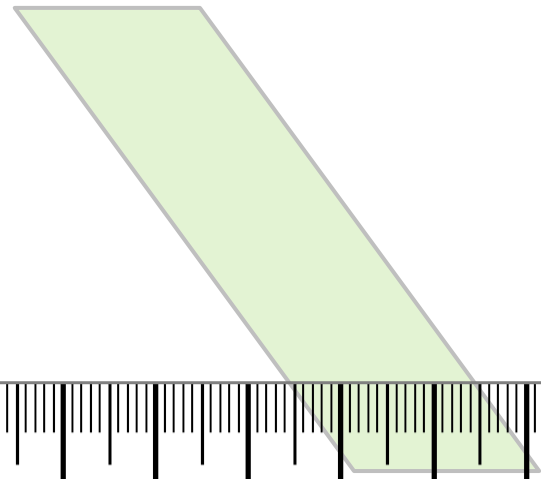
下面兩個平行四邊形，都是以上、下兩邊為底。
先描出高來，再用尺量量看底和高是幾公分？

1



底是 2 公分，
高是 1 公分。

2

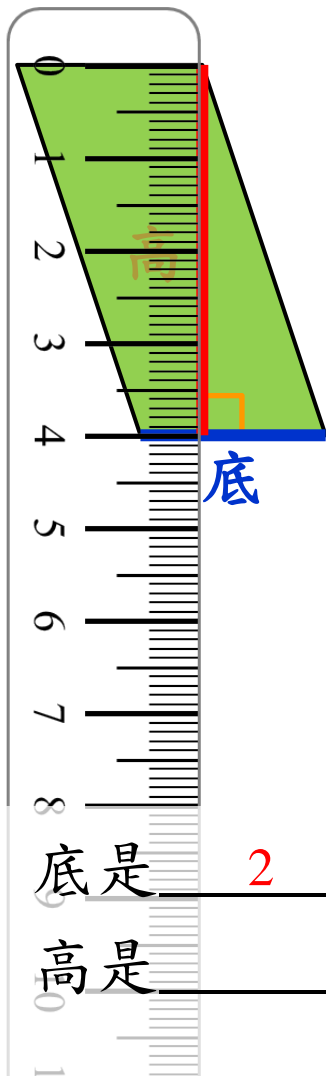


底是 2 公分，
高是 1 公分。

畫出平行四邊形的高

下面兩個平行四邊形，都是以上、下兩邊為底。
先描出高來，再用尺量量看底和高是幾公分？


1



底是 2 公分，

高是 3 公分。

2



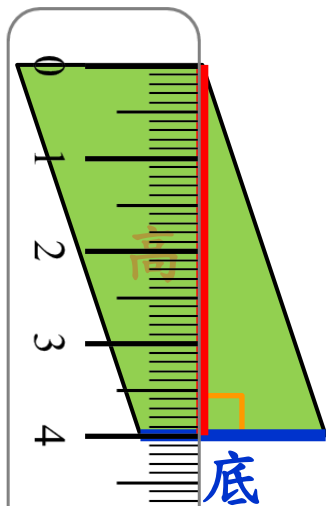
底是 _____ 公分，

高是 _____ 公分。

畫出平行四邊形的高

下面兩個平行四邊形，都是以上、下兩邊為底。
先描出高來，再用尺量量看底和高是幾公分？


1



底是 2 公分，

高是 4 公分。

2



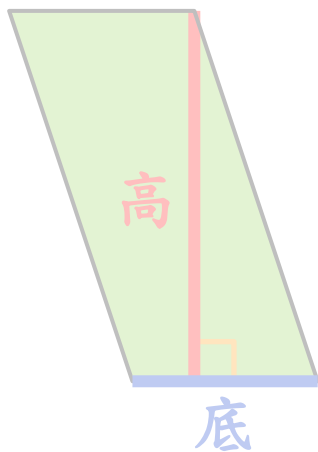
底是 _____ 公分，

高是 _____ 公分。

畫出平行四邊形的高


下面兩個平行四邊形，都是以上、下兩邊為底。
先描出高來，再用尺量量看底和高是幾公分？

1



底是 2 公分，
高是 4 公分。

2

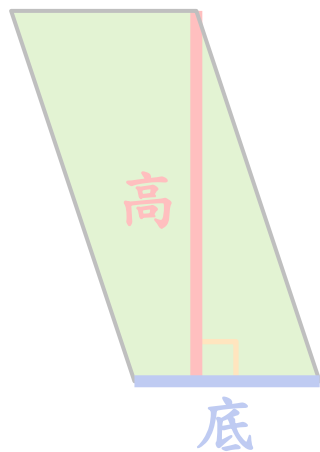


底是 _____ 公分，
高是 _____ 公分。

畫出平行四邊形的高

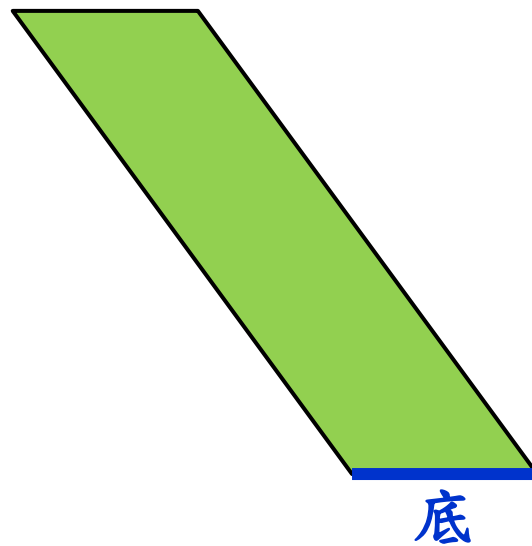
下面兩個平行四邊形，都是以上、下兩邊為底。
先描出高來，再用尺量量看底和高是幾公分？

1



底是 2 公分，
高是 4 公分。

2

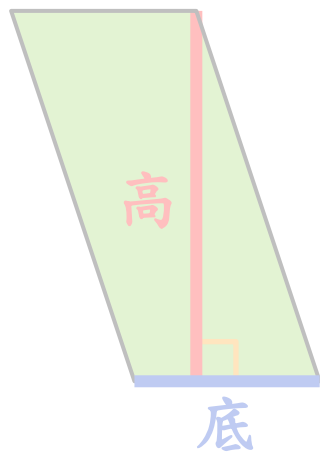


底是 _____ 公分，
高是 _____ 公分。

畫出平行四邊形的高


下面兩個平行四邊形，都是以上、下兩邊為底。
先描出高來，再用尺量量看底和高是幾公分？

1



底是 2 公分，
高是 4 公分。

2

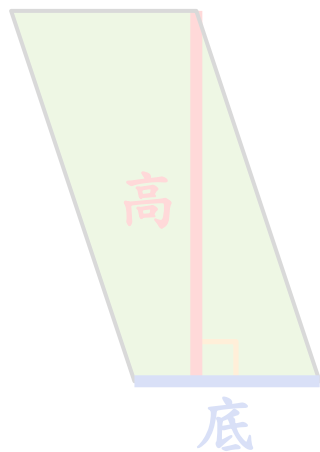


底是 _____ 公分，
高是 _____ 公分。

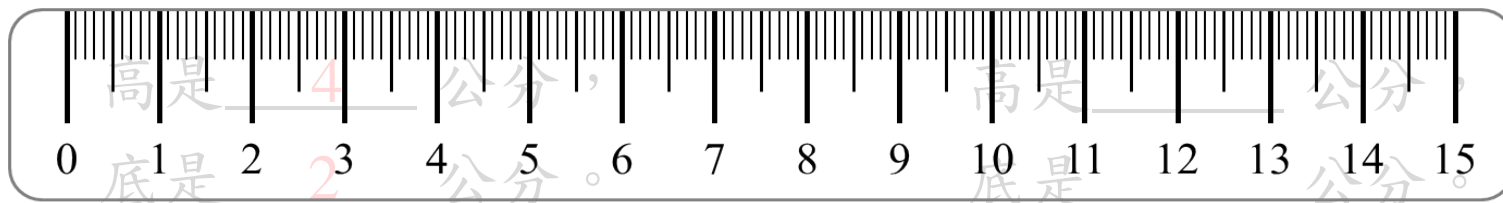
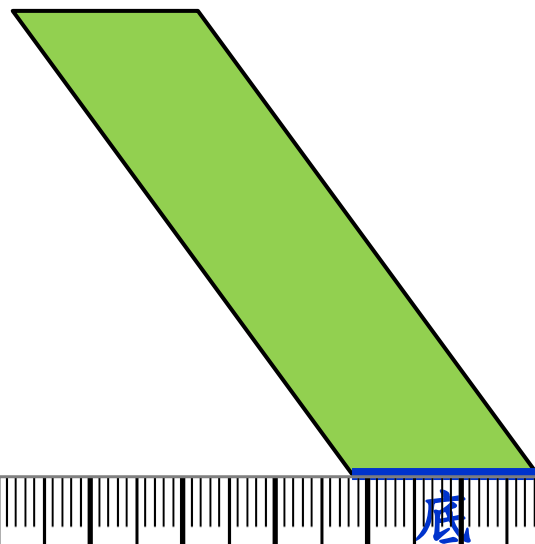
畫出平行四邊形的高

下面兩個平行四邊形，都是以上、下兩邊為底。
先描出高來，再用尺量量看底和高是幾公分？

1



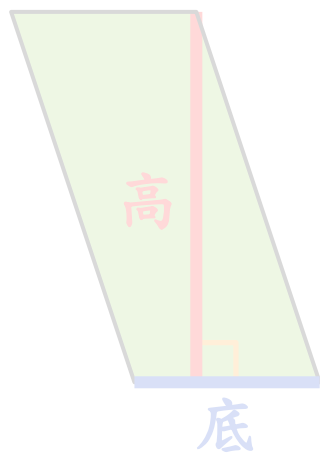
2



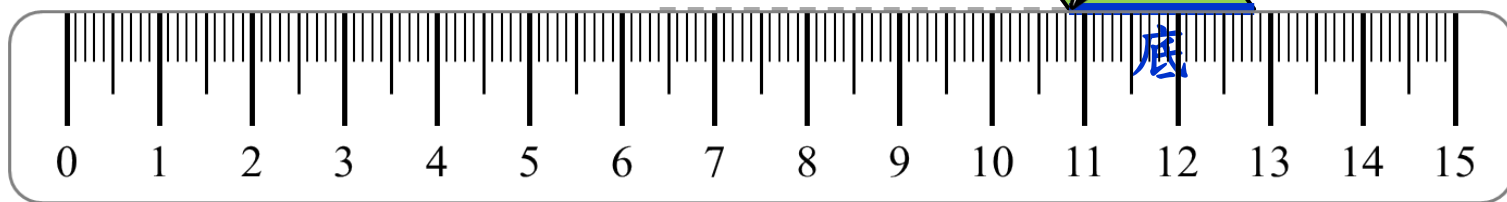
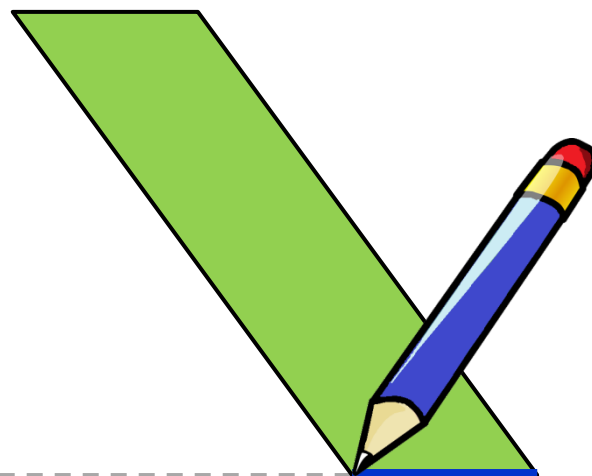
畫出平行四邊形的高

下面兩個平行四邊形，都是以上、下兩邊為底。
先描出高來，再用尺量量看底和高是幾公分？

1



2




底是 2 公分，
高是 4 公分。

底是 公分，
高是 公分。

畫出平行四邊形的高

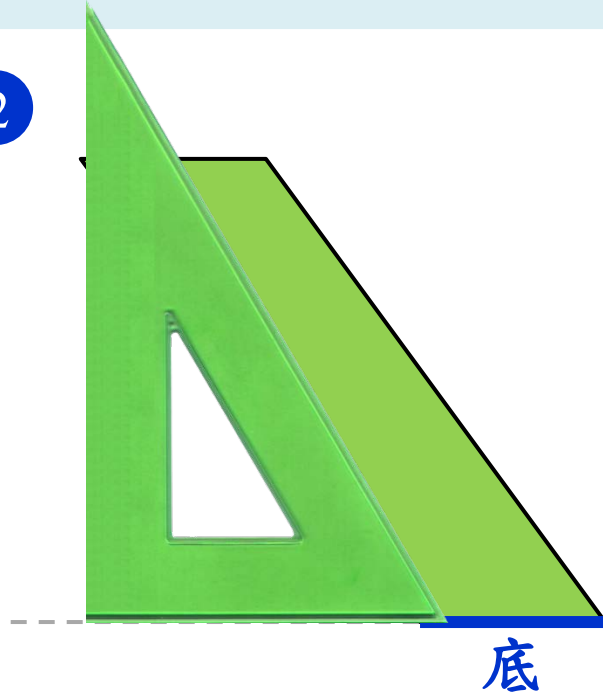
下面兩個平行四邊形，都是以上、下兩邊為底。
先描出高來，再用尺量量看底和高是幾公分？

1



底是 2 公分，
高是 4 公分。

2

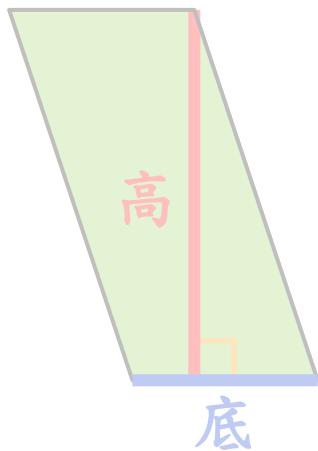


底是 _____ 公分，
高是 _____ 公分。

畫出平行四邊形的高

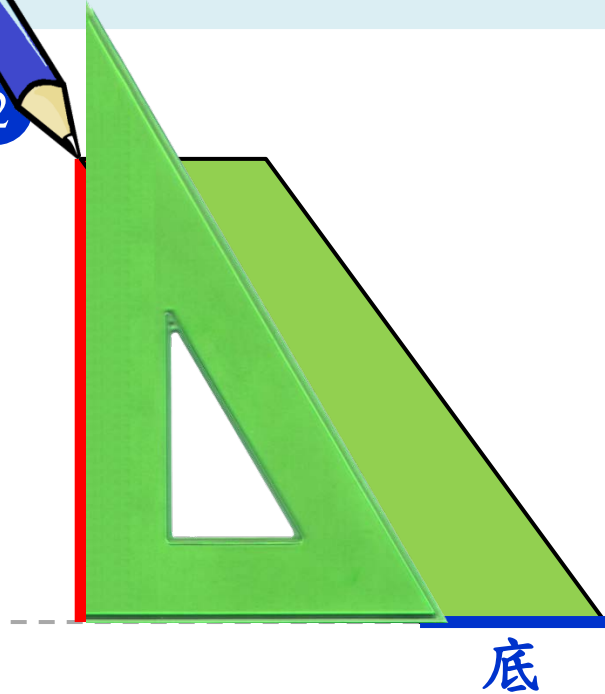
下面兩個平行四邊形，都是以上、下兩邊為底。
先描出高來，再用尺量量，底和高是幾公分？

1



底是 2 公分，
高是 4 公分。

2

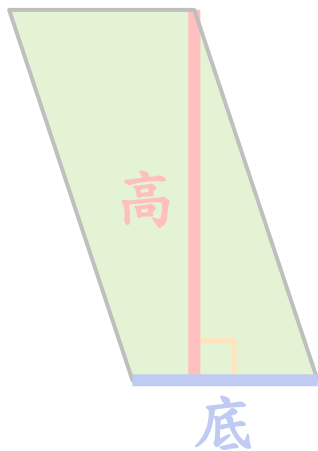


底是 公分，
高是 公分。

畫出平行四邊形的高

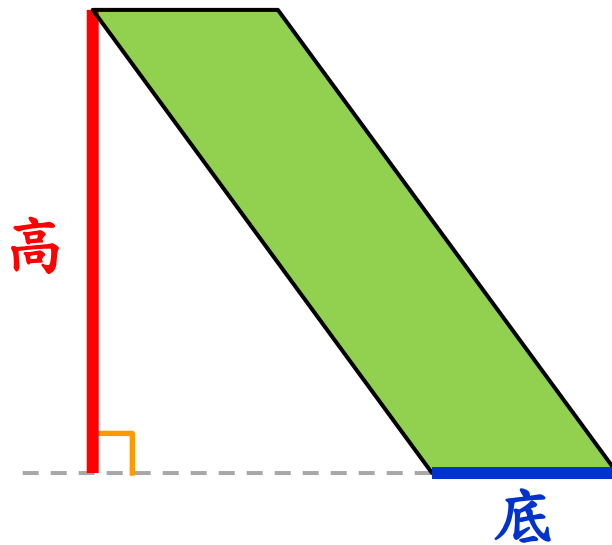
下面兩個平行四邊形，都是以上、下兩邊為底。
先描出高來，再用尺量量看底和高是幾公分？

1



底是 2 公分，
高是 4 公分。

2

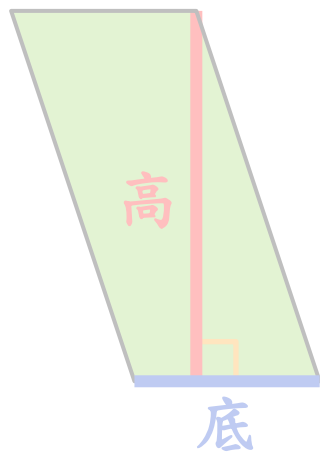


底是 公分，
高是 公分。

畫出平行四邊形的高

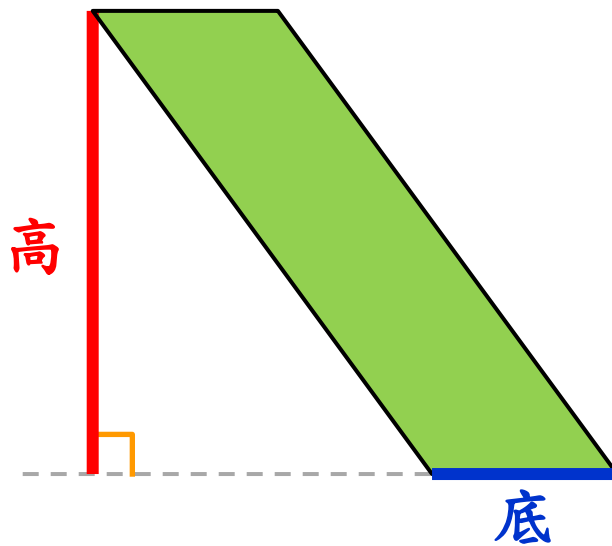
下面兩個平行四邊形，都是以上、下兩邊為底。
先描出高來，再用尺量量看底和高是幾公分？

1



底是 2 公分，
高是 4 公分。

2

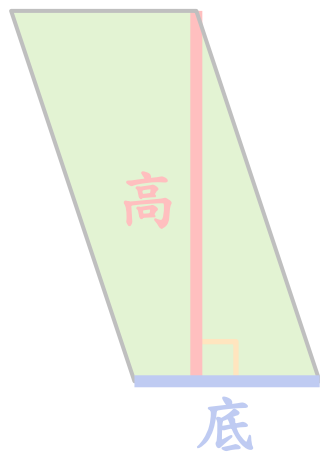


底是 _____ 公分，
高是 _____ 公分。

畫出平行四邊形的高

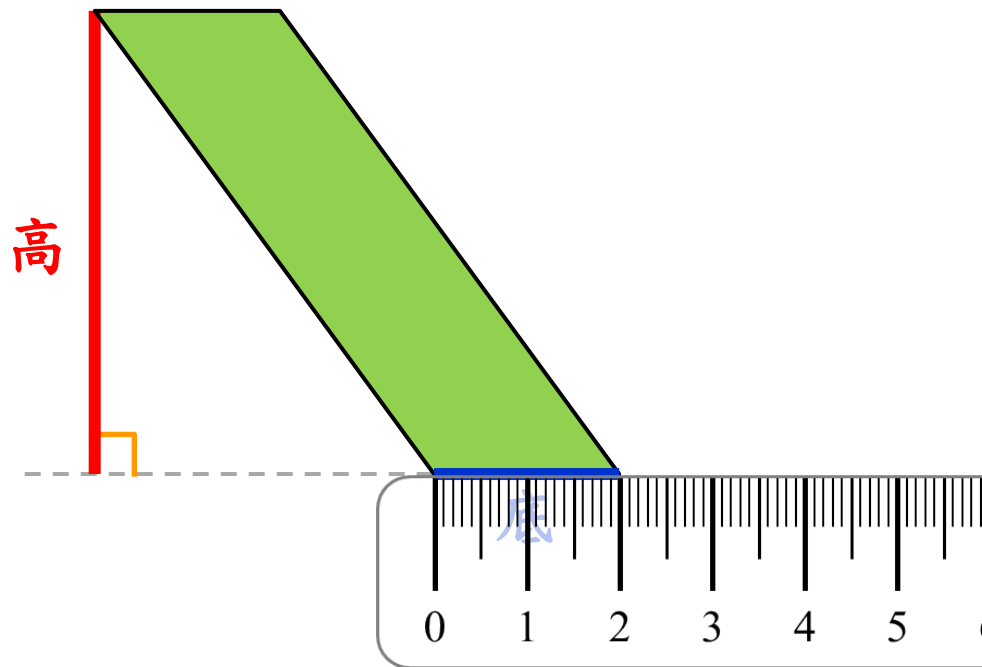
下面兩個平行四邊形，都是以上、下兩邊為底。
先描出高來，再用尺量量看底和高是幾公分？

1



底是 2 公分，
高是 4 公分。

2

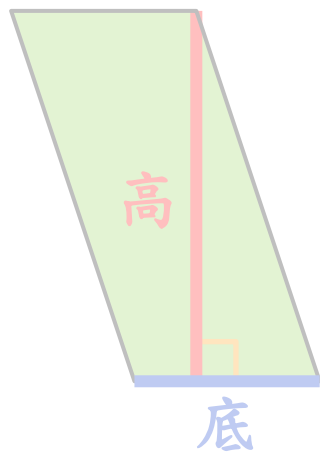


底是 2 公分，
高是 4 公分。

畫出平行四邊形的高

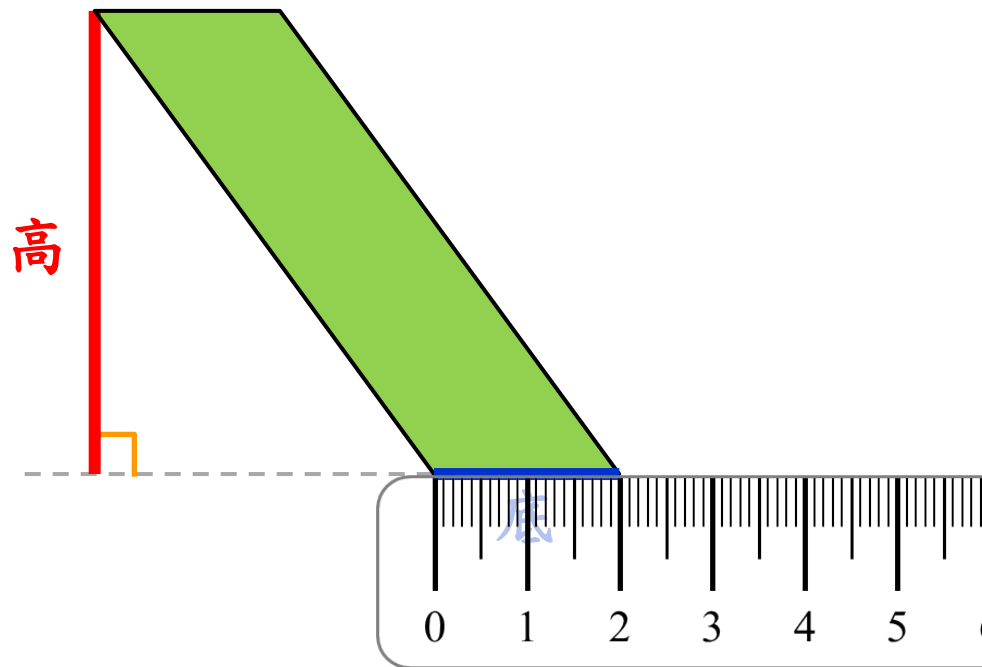
下面兩個平行四邊形，都是以上、下兩邊為底。
先描出高來，再用尺量量看底和高是幾公分？

1



底是 2 公分，
高是 4 公分。

2

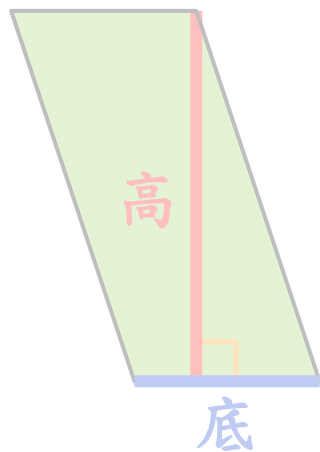


底是 2 公分，
高是 公分。

畫出平行四邊形的高

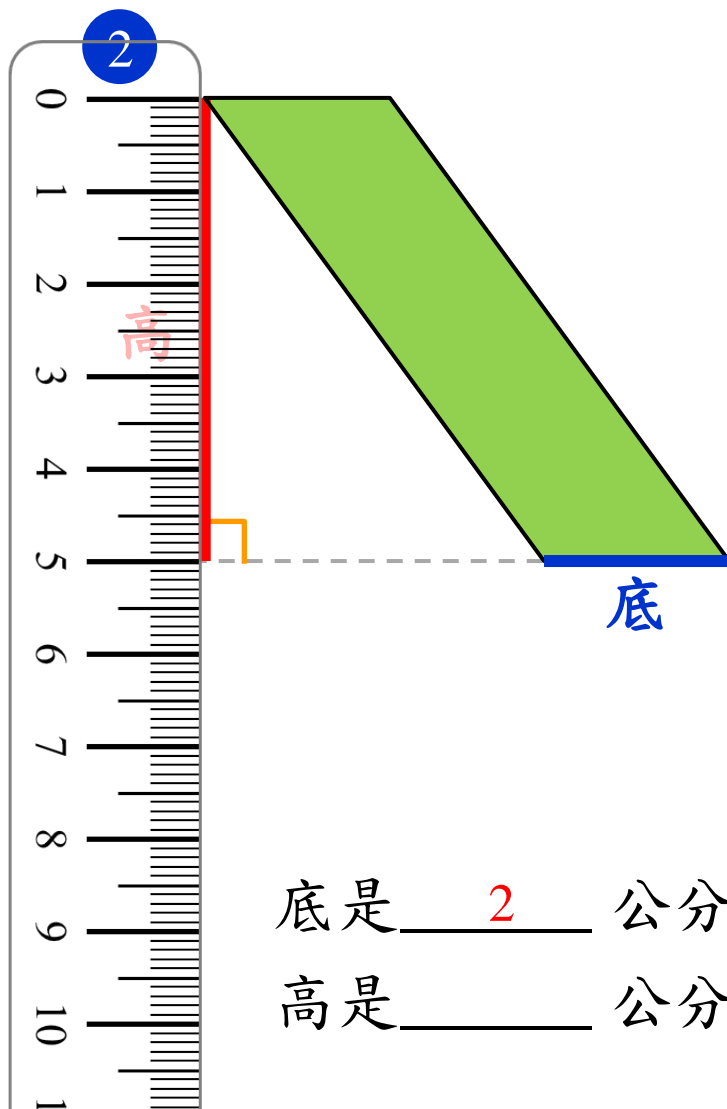
下面兩個平行四邊形，都是以上、下兩邊為底。
先描出高來，再用尺量量看底和高是幾公分？

1



底是 2 公分，
高是 4 公分。

2

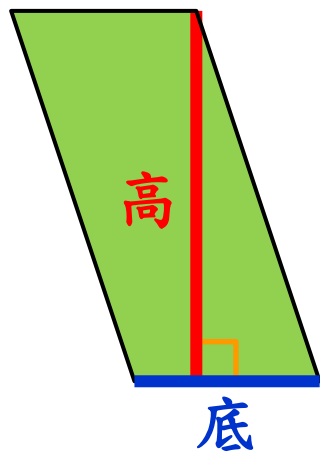


底是 2 公分，
高是 4 公分。

畫出平行四邊形的高

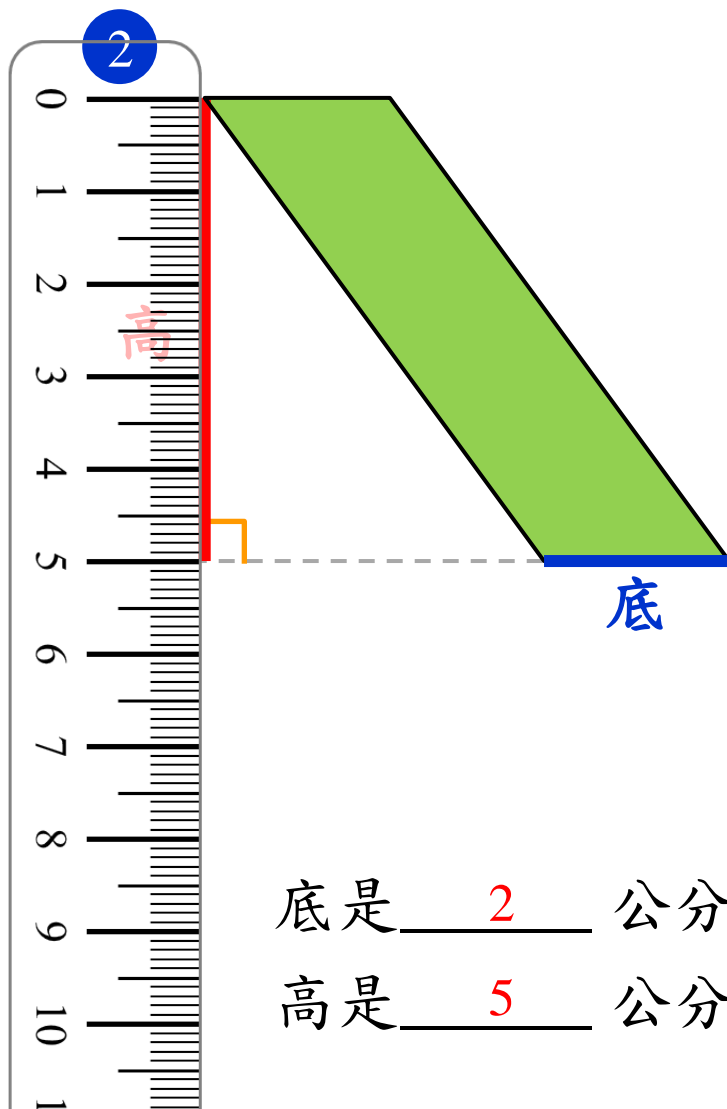
下面兩個平行四邊形，都是以上、下兩邊為底。
先描出高來，再用尺量量看底和高是幾公分？

1



底是 2 公分，
高是 4 公分。

2



底是 2 公分，
高是 5 公分。