

綜合與應用 (二)

附件 14 有 2 隻、4 隻和 6 隻腳的動物卡，兔包、菜包和肉包分別拿了幾張動物卡？根據下面問題填填看。

綜合與應用 (二)

附件 14 有 2 隻、4 隻和 6 隻腳的動物卡，兔包、菜包和肉包分別拿了幾張動物卡？根據下面問題填填看。

1 兔包拿了 2 隻腳和 4 隻腳的動物卡共 6 張，有 20 隻腳。



我的動物卡共有 20 隻腳。



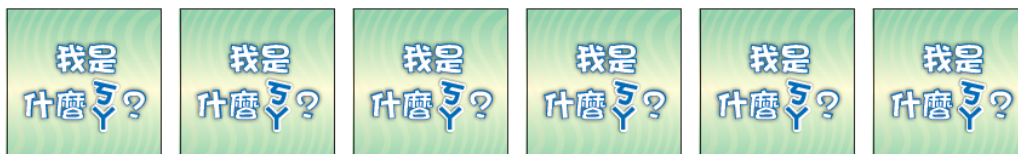
兔包拿了_____張 2 隻腳和_____張 4 隻腳的動物卡。

綜合與應用 (二)

附件 14 有 2 隻、4 隻和 6 隻腳的動物卡，兔包、菜包和肉包分別拿了幾張動物卡？根據下面問題填填看。

1 兔包拿了 2 隻腳和 4 隻腳的動物卡共 6 張，有 20 隻腳。

6 張都是 2 隻腳：



我的動物卡共有 20 隻腳。



兔包拿了_____張 2 隻腳和_____張 4 隻腳的動物卡。

綜合與應用 (二)

附件 14 有 2 隻、4 隻和 6 隻腳的動物卡，兔包、菜包和肉包分別拿了幾張動物卡？根據下面問題填填看。

1 兔包拿了 2 隻腳和 4 隻腳的動物卡共 6 張，有 20 隻腳。

6 張都是 2 隻腳：

$$2 \times 6$$



我的動物卡共有 20 隻腳。



兔包拿了_____張 2 隻腳和_____張 4 隻腳的動物卡。

綜合與應用 (二)

附件 14 有 2 隻、4 隻和 6 隻腳的動物卡，兔包、菜包和肉包分別拿了幾張動物卡？根據下面問題填填看。

1 兔包拿了 2 隻腳和 4 隻腳的動物卡共 6 張，有 20 隻腳。

6 張都是 2 隻腳：

$$2 \times 6 = 12$$



我的動物卡共有 20 隻腳。



兔包拿了_____張 2 隻腳和_____張 4 隻腳的動物卡。

綜合與應用 (二)

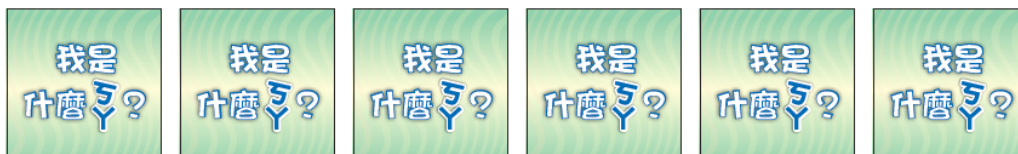
附件 14 有 2 隻、4 隻和 6 隻腳的動物卡，兔包、菜包和肉包分別拿了幾張動物卡？根據下面問題填填看。

1 兔包拿了 2 隻腳和 4 隻腳的動物卡共 6 張，有 20 隻腳。

6 張都是 2 隻腳：

$$2 \times 6 = 12$$

少了幾隻腳：



我的動物卡共有 20 隻腳。



兔包拿了_____張 2 隻腳和_____張 4 隻腳的動物卡。

綜合與應用 (二)

附件 14 有 2 隻、4 隻和 6 隻腳的動物卡，兔包、菜包和肉包分別拿了幾張動物卡？根據下面問題填填看。

1 兔包拿了 2 隻腳和 4 隻腳的動物卡共 6 張，有 **20 隻腳**。

6 張都是 2 隻腳：

$$2 \times 6 = 12$$

少了幾隻腳：



我的動物卡共有 20 隻腳。



兔包拿了_____張 2 隻腳和_____張 4 隻腳的動物卡。

綜合與應用 (二)

附件 14 有 2 隻、4 隻和 6 隻腳的動物卡，兔包、菜包和肉包分別拿了幾張動物卡？根據下面問題填填看。

1 兔包拿了 2 隻腳和 4 隻腳的動物卡共 6 張，有 20 隻腳。

6 張都是 2 隻腳：

$$2 \times 6 = 12$$

少了幾隻腳：

20



我的動物卡共有 20 隻腳。



兔包拿了_____張 2 隻腳和_____張 4 隻腳的動物卡。

綜合與應用 (二)

附件 14 有 2 隻、4 隻和 6 隻腳的動物卡，兔包、菜包和肉包分別拿了幾張動物卡？根據下面問題填填看。

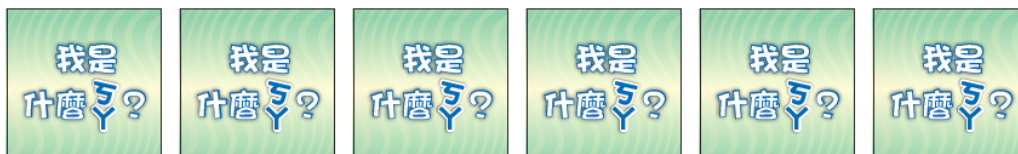
1 兔包拿了 2 隻腳和 4 隻腳的動物卡共 6 張，有 20 隻腳。

6 張都是 2 隻腳：

$$2 \times 6 = 12$$

少了幾隻腳：

20



我的動物卡共有 20 隻腳。



兔包拿了_____張 2 隻腳和_____張 4 隻腳的動物卡。

綜合與應用 (二)

附件 14 有 2 隻、4 隻和 6 隻腳的動物卡，兔包、菜包和肉包分別拿了幾張動物卡？根據下面問題填填看。

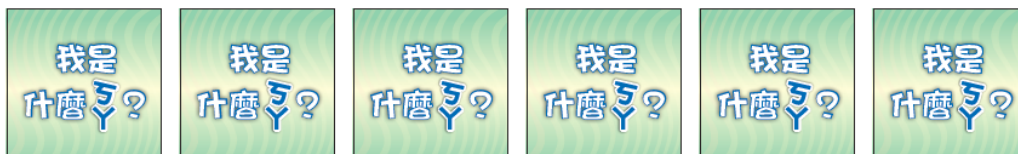
1 兔包拿了 2 隻腳和 4 隻腳的動物卡共 6 張，有 20 隻腳。

6 張都是 2 隻腳：

$$2 \times 6 = 12$$

少了幾隻腳：

$$20 - 12$$



我的動物卡共有 20 隻腳。



兔包拿了_____張 2 隻腳和_____張 4 隻腳的動物卡。

綜合與應用 (二)

附件 14 有 2 隻、4 隻和 6 隻腳的動物卡，兔包、菜包和肉包分別拿了幾張動物卡？根據下面問題填填看。

1 兔包拿了 2 隻腳和 4 隻腳的動物卡共 6 張，有 20 隻腳。

6 張都是 2 隻腳：

$$2 \times 6 = 12$$

少了幾隻腳：

$$20 - 12 = 8$$



我的動物卡共有 20 隻腳。



兔包拿了_____張 2 隻腳和_____張 4 隻腳的動物卡。

綜合與應用 (二)

附件 14 有 2 隻、4 隻和 6 隻腳的動物卡，兔包、菜包和肉包分別拿了幾張動物卡？根據下面問題填填看。

1 兔包拿了 2 隻腳和 4 隻腳的動物卡共 6 張，有 20 隻腳。

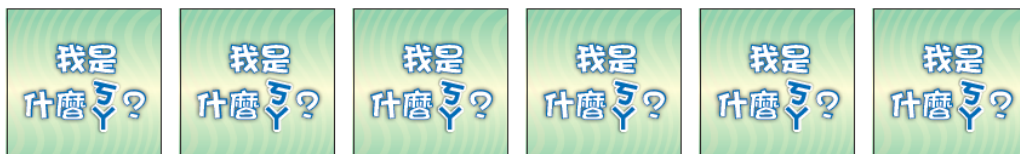
6 張都是 2 隻腳：

$$2 \times 6 = 12$$

少了幾隻腳：

$$20 - 12 = 8$$

4 隻腳比 2 隻腳多幾隻腳：



我的動物卡共有 20 隻腳。



兔包拿了_____張 2 隻腳和_____張 4 隻腳的動物卡。

綜合與應用 (二)

附件 14 有 2 隻、4 隻和 6 隻腳的動物卡，兔包、菜包和肉包分別拿了幾張動物卡？根據下面問題填填看。

1 兔包拿了 2 隻腳和 4 隻腳的動物卡共 6 張，有 20 隻腳。

6 張都是 2 隻腳：

$$2 \times 6 = 12$$

少了幾隻腳：

$$20 - 12 = 8$$

4 隻腳比 2 隻腳多幾隻腳：

$$4 - 2$$



我的動物卡共有 20 隻腳。



兔包拿了_____張 2 隻腳和_____張 4 隻腳的動物卡。

綜合與應用 (二)

附件 14 有 2 隻、4 隻和 6 隻腳的動物卡，兔包、菜包和肉包分別拿了幾張動物卡？根據下面問題填填看。

1 兔包拿了 2 隻腳和 4 隻腳的動物卡共 6 張，有 20 隻腳。

6 張都是 2 隻腳：

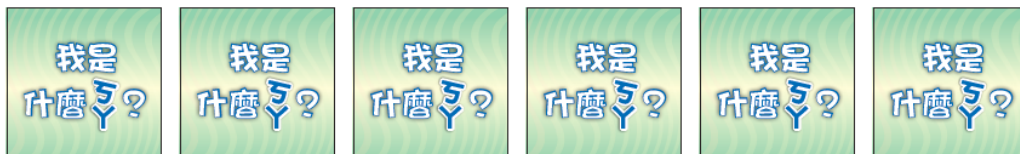
$$2 \times 6 = 12$$

少了幾隻腳：

$$20 - 12 = 8$$

4 隻腳比 2 隻腳多幾隻腳：

$$4 - 2 = 2$$



我的動物卡共有 20 隻腳。



兔包拿了_____張 2 隻腳和_____張 4 隻腳的動物卡。

綜合與應用 (二)

附件 14 有 2 隻、4 隻和 6 隻腳的動物卡，兔包、菜包和肉包分別拿了幾張動物卡？根據下面問題填填看。

1 兔包拿了 2 隻腳和 4 隻腳的動物卡共 6 張，有 20 隻腳。

6 張都是 2 隻腳：

$$2 \times 6 = 12$$

少了幾隻腳：

$$20 - 12 = 8$$

4 隻腳比 2 隻腳多幾隻腳：

$$4 - 2 = 2$$

將幾隻 2 隻腳換成 4 隻腳：



我的動物卡共有 20 隻腳。



兔包拿了_____張 2 隻腳和_____張 4 隻腳的動物卡。

綜合與應用 (二)

附件 14 有 2 隻、4 隻和 6 隻腳的動物卡，兔包、菜包和肉包分別拿了幾張動物卡？根據下面問題填填看。

1 兔包拿了 2 隻腳和 4 隻腳的動物卡共 6 張，有 20 隻腳。

6 張都是 2 隻腳：

$$2 \times 6 = 12$$

少了幾隻腳：

$$20 - 12 = 8$$

4 隻腳比 2 隻腳多幾隻腳：

$$4 - 2 = 2$$

將幾隻 2 隻腳換成 4 隻腳：



我的動物卡共有 20 隻腳。



兔包拿了_____張 2 隻腳和_____張 4 隻腳的動物卡。

綜合與應用 (二)

附件 14 有 2 隻、4 隻和 6 隻腳的動物卡，兔包、菜包和肉包分別拿了幾張動物卡？根據下面問題填填看。

1 兔包拿了 2 隻腳和 4 隻腳的動物卡共 6 張，有 20 隻腳。

6 張都是 2 隻腳：

$$2 \times 6 = 12$$

少了幾隻腳：

$$20 - 12 = 8$$

4 隻腳比 2 隻腳多幾隻腳：

$$4 - 2 = 2$$

將幾隻 2 隻腳換成 4 隻腳：

8



我的動物卡共有 20 隻腳。



兔包拿了_____張 2 隻腳和_____張 4 隻腳的動物卡。

綜合與應用 (二)

附件 14 有 2 隻、4 隻和 6 隻腳的動物卡，兔包、菜包和肉包分別拿了幾張動物卡？根據下面問題填填看。

1 兔包拿了 2 隻腳和 4 隻腳的動物卡共 6 張，有 20 隻腳。

6 張都是 2 隻腳：

$$2 \times 6 = 12$$

少了幾隻腳：

$$20 - 12 = 8$$

4 隻腳比 2 隻腳多幾隻腳：

$$4 - 2 = 2$$

將幾隻 2 隻腳換成 4 隻腳：

8



我的動物卡共有 20 隻腳。



兔包拿了_____張 2 隻腳和_____張 4 隻腳的動物卡。

綜合與應用 (二)

附件 14 有 2 隻、4 隻和 6 隻腳的動物卡，兔包、菜包和肉包分別拿了幾張動物卡？根據下面問題填填看。

1 兔包拿了 2 隻腳和 4 隻腳的動物卡共 6 張，有 20 隻腳。

6 張都是 2 隻腳：

$$2 \times 6 = 12$$

少了幾隻腳：

$$20 - 12 = 8$$

4 隻腳比 2 隻腳多幾隻腳：

$$4 - 2 = 2$$

將幾隻 2 隻腳換成 4 隻腳：

$$8 \div 2$$



我的動物卡共有 20 隻腳。



兔包拿了_____張 2 隻腳和_____張 4 隻腳的動物卡。

綜合與應用 (二)

附件 14 有 2 隻、4 隻和 6 隻腳的動物卡，兔包、菜包和肉包分別拿了幾張動物卡？根據下面問題填填看。

1 兔包拿了 2 隻腳和 4 隻腳的動物卡共 6 張，有 20 隻腳。

6 張都是 2 隻腳：

$$2 \times 6 = 12$$

少了幾隻腳：

$$20 - 12 = 8$$

4 隻腳比 2 隻腳多幾隻腳：

$$4 - 2 = 2$$

將幾隻 2 隻腳換成 4 隻腳：

$$8 \div 2 = 4$$



我的動物卡共有 20 隻腳。



兔包拿了_____張 2 隻腳和_____張 4 隻腳的動物卡。

綜合與應用 (二)

附件 14 有 2 隻、4 隻和 6 隻腳的動物卡，兔包、菜包和肉包分別拿了幾張動物卡？根據下面問題填填看。

1 兔包拿了 2 隻腳和 4 隻腳的動物卡共 6 張，有 20 隻腳。

6 張都是 2 隻腳：

$$2 \times 6 = 12$$

少了幾隻腳：

$$20 - 12 = 8$$

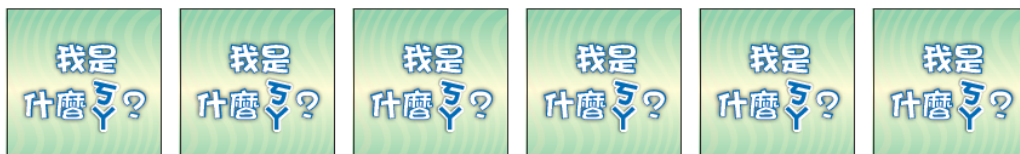
4 隻腳比 2 隻腳多幾隻腳：

$$4 - 2 = 2$$

將幾隻 2 隻腳換成 4 隻腳：

$$8 \div 2 = 4$$

2 隻腳的數量：



我的動物卡共有 20 隻腳。



兔包拿了 _____ 張 2 隻腳和 _____ 張 4 隻腳的動物卡。

綜合與應用 (二)

附件 14 有 2 隻、4 隻和 6 隻腳的動物卡，兔包、菜包和肉包分別拿了幾張動物卡？根據下面問題填填看。

1 兔包拿了 2 隻腳和 4 隻腳的動物卡 **共 6 張**，有 20 隻腳。

6 張都是 2 隻腳：

$$2 \times 6 = 12$$

少了幾隻腳：

$$20 - 12 = 8$$

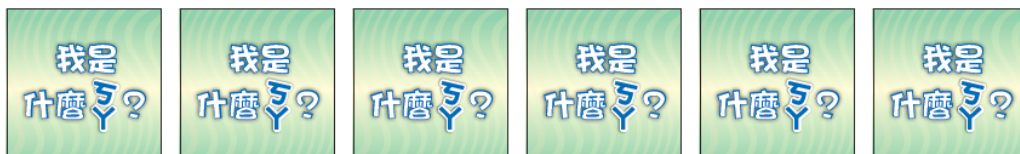
4 隻腳比 2 隻腳多幾隻腳：

$$4 - 2 = 2$$

將幾隻 2 隻腳換成 4 隻腳：

$$8 \div 2 = 4$$

2 隻腳的數量：



我的動物卡共有 20 隻腳。



兔包拿了 _____ 張 2 隻腳和 _____ 張 4 隻腳的動物卡。

綜合與應用 (二)

附件 14 有 2 隻、4 隻和 6 隻腳的動物卡，兔包、菜包和肉包分別拿了幾張動物卡？根據下面問題填填看。

1 兔包拿了 2 隻腳和 4 隻腳的動物卡 **共 6 張**，有 20 隻腳。

6 張都是 2 隻腳：

$$2 \times 6 = 12$$

少了幾隻腳：

$$20 - 12 = 8$$

4 隻腳比 2 隻腳多幾隻腳：

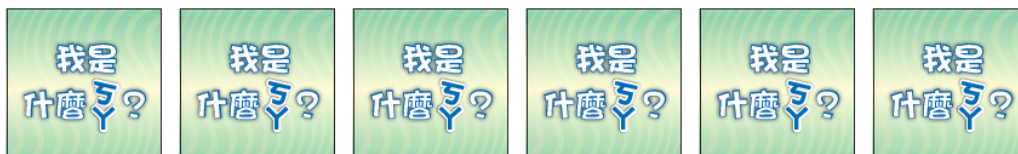
$$4 - 2 = 2$$

將幾隻 2 隻腳換成 4 隻腳：

$$8 \div 2 = 4$$

2 隻腳的數量：

6



我的動物卡共有 20 隻腳。



兔包拿了 _____ 張 2 隻腳和 _____ 張 4 隻腳的動物卡。

綜合與應用 (二)

附件 14 有 2 隻、4 隻和 6 隻腳的動物卡，兔包、菜包和肉包分別拿了幾張動物卡？根據下面問題填填看。

1 兔包拿了 2 隻腳和 4 隻腳的動物卡共 6 張，有 20 隻腳。

6 張都是 2 隻腳：

$$2 \times 6 = 12$$

少了幾隻腳：

$$20 - 12 = 8$$

4 隻腳比 2 隻腳多幾隻腳：

$$4 - 2 = 2$$

將幾隻 2 隻腳換成 4 隻腳：

$$8 \div 2 = 4$$

2 隻腳的數量：

6

兔包拿了 _____ 張 2 隻腳和 _____ 張 4 隻腳的動物卡。



我的動物卡共有 20 隻腳。



綜合與應用 (二)

附件 14 有 2 隻、4 隻和 6 隻腳的動物卡，兔包、菜包和肉包分別拿了幾張動物卡？根據下面問題填填看。

1 兔包拿了 2 隻腳和 4 隻腳的動物卡共 6 張，有 20 隻腳。

6 張都是 2 隻腳：

$$2 \times 6 = 12$$

少了幾隻腳：

$$20 - 12 = 8$$

4 隻腳比 2 隻腳多幾隻腳：

$$4 - 2 = 2$$

將幾隻 2 隻腳換成 4 隻腳：

$$8 \div 2 = 4$$

2 隻腳的數量：

$$6 - 4$$

兔包拿了 _____ 張 2 隻腳和 _____ 張 4 隻腳的動物卡。



我的動物卡共有 20 隻腳。



綜合與應用 (二)

附件 14 有 2 隻、4 隻和 6 隻腳的動物卡，兔包、菜包和肉包分別拿了幾張動物卡？根據下面問題填填看。

1 兔包拿了 2 隻腳和 4 隻腳的動物卡共 6 張，有 20 隻腳。

6 張都是 2 隻腳：

$$2 \times 6 = 12$$

少了幾隻腳：

$$20 - 12 = 8$$

4 隻腳比 2 隻腳多幾隻腳：

$$4 - 2 = 2$$

將幾隻 2 隻腳換成 4 隻腳：

$$8 \div 2 = 4$$

2 隻腳的數量：

$$6 - 4 = 2$$

兔包拿了 _____ 張 2 隻腳和 _____ 張 4 隻腳的動物卡。



我的動物卡共有 20 隻腳。



綜合與應用 (二)

附件 14 有 2 隻、4 隻和 6 隻腳的動物卡，兔包、菜包和肉包分別拿了幾張動物卡？根據下面問題填填看。

1 兔包拿了 2 隻腳和 4 隻腳的動物卡共 6 張，有 20 隻腳。

6 張都是 2 隻腳：

$$2 \times 6 = 12$$

少了幾隻腳：

$$20 - 12 = 8$$

4 隻腳比 2 隻腳多幾隻腳：

$$4 - 2 = 2$$

將幾隻 2 隻腳換成 4 隻腳：

$$8 \div 2 = 4$$

2 隻腳的數量：

$$6 - 4 = 2$$

兔包拿了 2 張 2 隻腳和 4 張 4 隻腳的動物卡。



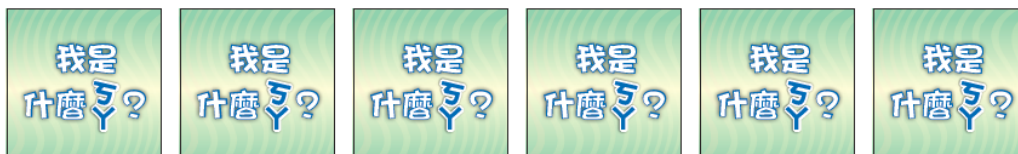
我的動物卡共有 20 隻腳。



綜合與應用 (二)

附件 14 有 2 隻、4 隻和 6 隻腳的動物卡，兔包、菜包和肉包分別拿了幾張動物卡？根據下面問題填填看。

2 菜包拿了 4 隻腳和 6 隻腳的動物卡共 6 張，有 30 隻腳。



我的動物卡共有 30 隻腳。



菜包拿了 _____ 張 4 隻腳和 _____ 張 6 隻腳的動物卡。

綜合與應用 (二)

附件 14 有 2 隻、4 隻和 6 隻腳的動物卡，兔包、菜包和肉包分別拿了幾張動物卡？根據下面問題填填看。

2 菜包拿了 4 隻腳和 6 隻腳的動物卡共 6 張，有 30 隻腳。

6 張都是 4 隻腳：



我的動物卡共有 30 隻腳。



菜包拿了 _____ 張 4 隻腳和 _____ 張 6 隻腳的動物卡。

綜合與應用 (二)

附件 14 有 2 隻、4 隻和 6 隻腳的動物卡，兔包、菜包和肉包分別拿了幾張動物卡？根據下面問題填填看。

2 菜包拿了 4 隻腳和 6 隻腳的動物卡共 6 張，有 30 隻腳。

6 張都是 4 隻腳：
 4×6



我的動物卡共有 30 隻腳。



菜包拿了 _____ 張 4 隻腳和 _____ 張 6 隻腳的動物卡。

綜合與應用 (二)

附件 14 有 2 隻、4 隻和 6 隻腳的動物卡，兔包、菜包和肉包分別拿了幾張動物卡？根據下面問題填填看。

2 菜包拿了 4 隻腳和 6 隻腳的動物卡共 6 張，有 30 隻腳。

6 張都是 4 隻腳：

$$4 \times 6 = 24$$



我的動物卡共有 30 隻腳。



菜包拿了_____張 4 隻腳和_____張 6 隻腳的動物卡。

綜合與應用 (二)

附件 14 有 2 隻、4 隻和 6 隻腳的動物卡，兔包、菜包和肉包分別拿了幾張動物卡？根據下面問題填填看。

2 菜包拿了 4 隻腳和 6 隻腳的動物卡共 6 張，有 30 隻腳。

6 張都是 4 隻腳：

$$4 \times 6 = 24$$

少了幾隻腳：



我的動物卡共有 30 隻腳。



菜包拿了_____張 4 隻腳和_____張 6 隻腳的動物卡。

綜合與應用 (二)

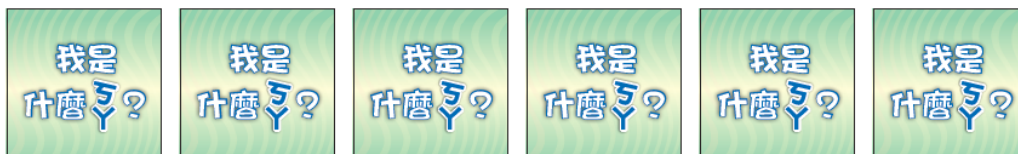
附件 14 有 2 隻、4 隻和 6 隻腳的動物卡，兔包、菜包和肉包分別拿了幾張動物卡？根據下面問題填填看。

2 菜包拿了 4 隻腳和 6 隻腳的動物卡共 6 張，有 **30 隻腳**。

6 張都是 4 隻腳：

$$4 \times 6 = 24$$

少了幾隻腳：



我的動物卡共有 30 隻腳。



菜包拿了 _____ 張 4 隻腳和 _____ 張 6 隻腳的動物卡。

綜合與應用 (二)

附件 14 有 2 隻、4 隻和 6 隻腳的動物卡，兔包、菜包和肉包分別拿了幾張動物卡？根據下面問題填填看。

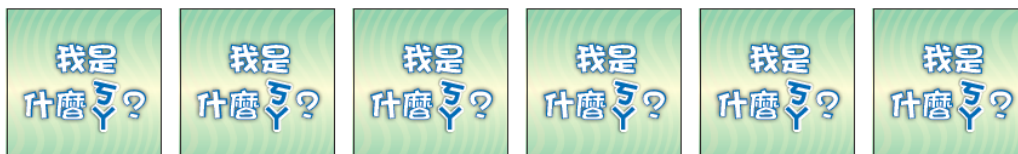
2 菜包拿了 4 隻腳和 6 隻腳的動物卡共 6 張，有 30 隻腳。

6 張都是 4 隻腳：

$$4 \times 6 = 24$$

少了幾隻腳：

30



我的動物卡共有 30 隻腳。



菜包拿了 _____ 張 4 隻腳和 _____ 張 6 隻腳的動物卡。

綜合與應用 (二)

附件 14 有 2 隻、4 隻和 6 隻腳的動物卡，兔包、菜包和肉包分別拿了幾張動物卡？根據下面問題填填看。

2 菜包拿了 4 隻腳和 6 隻腳的動物卡共 6 張，有 30 隻腳。

6 張都是 4 隻腳：

$$4 \times 6 = 24$$

少了幾隻腳：

30



我的動物卡共有 30 隻腳。



菜包拿了_____張 4 隻腳和_____張 6 隻腳的動物卡。

綜合與應用 (二)

附件 14 有 2 隻、4 隻和 6 隻腳的動物卡，兔包、菜包和肉包分別拿了幾張動物卡？根據下面問題填填看。

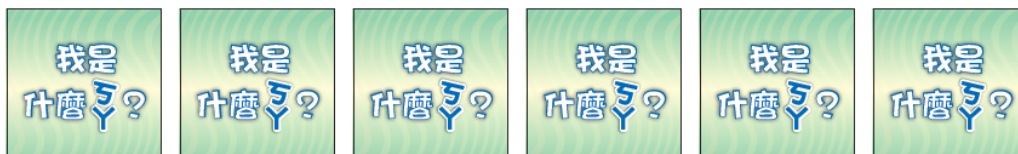
2 菜包拿了 4 隻腳和 6 隻腳的動物卡共 6 張，有 30 隻腳。

6 張都是 4 隻腳：

$$4 \times 6 = 24$$

少了幾隻腳：

$$30 - 24$$



我的動物卡共有 30 隻腳。



菜包拿了 _____ 張 4 隻腳和 _____ 張 6 隻腳的動物卡。

綜合與應用 (二)

附件 14 有 2 隻、4 隻和 6 隻腳的動物卡，兔包、菜包和肉包分別拿了幾張動物卡？根據下面問題填填看。

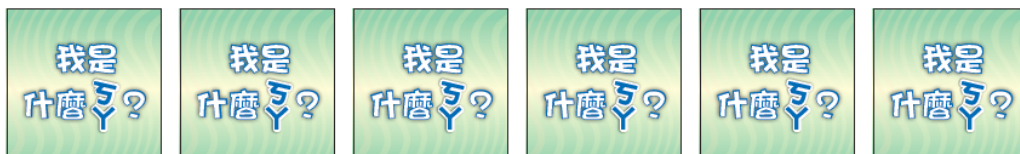
2 菜包拿了 4 隻腳和 6 隻腳的動物卡共 6 張，有 30 隻腳。

6 張都是 4 隻腳：

$$4 \times 6 = 24$$

少了幾隻腳：

$$30 - 24 = 6$$



我的動物卡共有 30 隻腳。



菜包拿了 _____ 張 4 隻腳和 _____ 張 6 隻腳的動物卡。

綜合與應用 (二)

附件 14 有 2 隻、4 隻和 6 隻腳的動物卡，兔包、菜包和肉包分別拿了幾張動物卡？根據下面問題填填看。

2 菜包拿了 4 隻腳和 6 隻腳的動物卡共 6 張，有 30 隻腳。

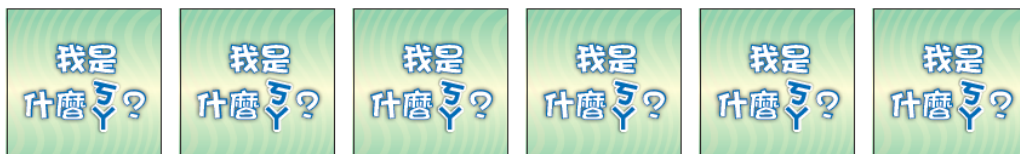
6 張都是 4 隻腳：

$$4 \times 6 = 24$$

少了幾隻腳：

$$30 - 24 = 6$$

6 隻腳比 4 隻腳多幾隻腳：



我的動物卡共有 30 隻腳。



菜包拿了 _____ 張 4 隻腳和 _____ 張 6 隻腳的動物卡。

綜合與應用 (二)

附件 14 有 2 隻、4 隻和 6 隻腳的動物卡，兔包、菜包和肉包分別拿了幾張動物卡？根據下面問題填填看。

2 菜包拿了 4 隻腳和 6 隻腳的動物卡共 6 張，有 30 隻腳。

6 張都是 4 隻腳：

$$4 \times 6 = 24$$

少了幾隻腳：

$$30 - 24 = 6$$

6 隻腳比 4 隻腳多幾隻腳：

$$6 - 4$$



我的動物卡共有 30 隻腳。



菜包拿了 _____ 張 4 隻腳和 _____ 張 6 隻腳的動物卡。

綜合與應用 (二)

附件 14 有 2 隻、4 隻和 6 隻腳的動物卡，兔包、菜包和肉包分別拿了幾張動物卡？根據下面問題填填看。

2 菜包拿了 4 隻腳和 6 隻腳的動物卡共 6 張，有 30 隻腳。

6 張都是 4 隻腳：

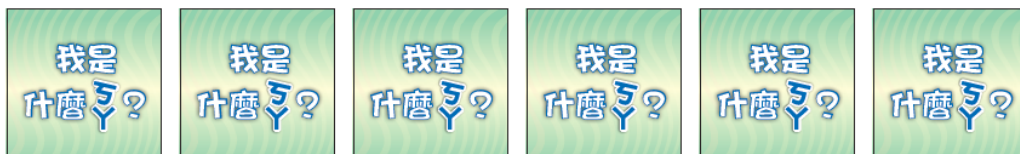
$$4 \times 6 = 24$$

少了幾隻腳：

$$30 - 24 = 6$$

6 隻腳比 4 隻腳多幾隻腳：

$$6 - 4 = 2$$



我的動物卡共有 30 隻腳。



菜包拿了 _____ 張 4 隻腳和 _____ 張 6 隻腳的動物卡。

綜合與應用 (二)

附件 14 有 2 隻、4 隻和 6 隻腳的動物卡，兔包、菜包和肉包分別拿了幾張動物卡？根據下面問題填填看。

2 菜包拿了 4 隻腳和 6 隻腳的動物卡共 6 張，有 30 隻腳。

6 張都是 4 隻腳：

$$4 \times 6 = 24$$

少了幾隻腳：

$$30 - 24 = 6$$

6 隻腳比 4 隻腳多幾隻腳：

$$6 - 4 = 2$$

將幾隻 4 隻腳換成 6 隻腳：



我的動物卡共有 30 隻腳。



菜包拿了 _____ 張 4 隻腳和 _____ 張 6 隻腳的動物卡。

綜合與應用 (二)

附件 14 有 2 隻、4 隻和 6 隻腳的動物卡，兔包、菜包和肉包分別拿了幾張動物卡？根據下面問題填填看。

2 菜包拿了 4 隻腳和 6 隻腳的動物卡共 6 張，有 30 隻腳。

6 張都是 4 隻腳：

$$4 \times 6 = 24$$

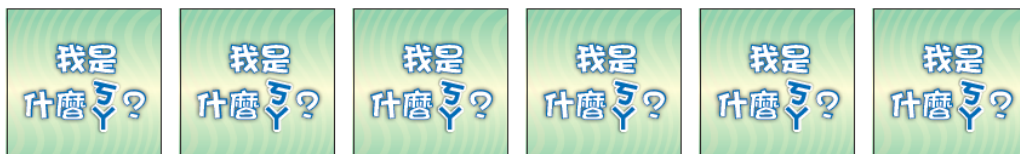
少了幾隻腳：

$$30 - 24 = 6$$

6 隻腳比 4 隻腳多幾隻腳：

$$6 - 4 = 2$$

將幾隻 4 隻腳換成 6 隻腳：



我的動物卡共有 30 隻腳。



菜包拿了 _____ 張 4 隻腳和 _____ 張 6 隻腳的動物卡。

綜合與應用 (二)

附件 14 有 2 隻、4 隻和 6 隻腳的動物卡，兔包、菜包和肉包分別拿了幾張動物卡？根據下面問題填填看。

2 菜包拿了 4 隻腳和 6 隻腳的動物卡共 6 張，有 30 隻腳。

6 張都是 4 隻腳：

$$4 \times 6 = 24$$

少了幾隻腳：

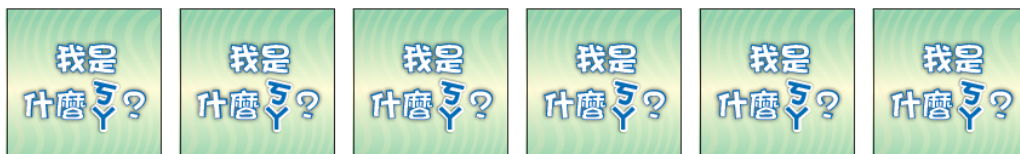
$$30 - 24 = 6$$

6 隻腳比 4 隻腳多幾隻腳：

$$6 - 4 = 2$$

將幾隻 4 隻腳換成 6 隻腳：

6



我的動物卡共有 30 隻腳。



菜包拿了 _____ 張 4 隻腳和 _____ 張 6 隻腳的動物卡。

綜合與應用 (二)

附件 14 有 2 隻、4 隻和 6 隻腳的動物卡，兔包、菜包和肉包分別拿了幾張動物卡？根據下面問題填填看。

2 菜包拿了 4 隻腳和 6 隻腳的動物卡共 6 張，有 30 隻腳。

6 張都是 4 隻腳：

$$4 \times 6 = 24$$

少了幾隻腳：

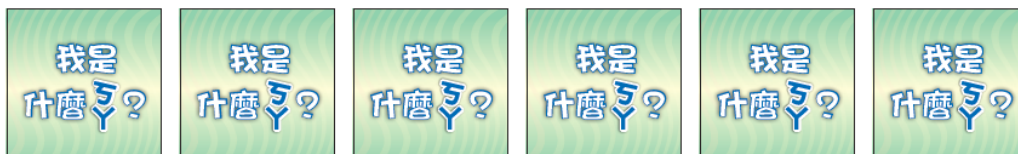
$$30 - 24 = 6$$

6 隻腳比 4 隻腳多幾隻腳：

$$6 - 4 = 2$$

將幾隻 4 隻腳換成 6 隻腳：

6



我的動物卡共有 30 隻腳。



菜包拿了 _____ 張 4 隻腳和 _____ 張 6 隻腳的動物卡。

綜合與應用 (二)

附件 14 有 2 隻、4 隻和 6 隻腳的動物卡，兔包、菜包和肉包分別拿了幾張動物卡？根據下面問題填填看。

2 菜包拿了 4 隻腳和 6 隻腳的動物卡共 6 張，有 30 隻腳。

6 張都是 4 隻腳：

$$4 \times 6 = 24$$

少了幾隻腳：

$$30 - 24 = 6$$

6 隻腳比 4 隻腳多幾隻腳：

$$6 - 4 = 2$$

將幾隻 4 隻腳換成 6 隻腳：

$$6 \div 2$$



我的動物卡共有 30 隻腳。



菜包拿了 _____ 張 4 隻腳和 _____ 張 6 隻腳的動物卡。

綜合與應用 (二)

附件 14 有 2 隻、4 隻和 6 隻腳的動物卡，兔包、菜包和肉包分別拿了幾張動物卡？根據下面問題填填看。

2 菜包拿了 4 隻腳和 6 隻腳的動物卡共 6 張，有 30 隻腳。

6 張都是 4 隻腳：

$$4 \times 6 = 24$$

少了幾隻腳：

$$30 - 24 = 6$$

6 隻腳比 4 隻腳多幾隻腳：

$$6 - 4 = 2$$

將幾隻 4 隻腳換成 6 隻腳：

$$6 \div 2 = 3$$



我的動物卡共有 30 隻腳。



菜包拿了 _____ 張 4 隻腳和 _____ 張 6 隻腳的動物卡。

綜合與應用 (二)

附件 14 有 2 隻、4 隻和 6 隻腳的動物卡，兔包、菜包和肉包分別拿了幾張動物卡？根據下面問題填填看。

2 菜包拿了 4 隻腳和 6 隻腳的動物卡共 6 張，有 30 隻腳。

6 張都是 4 隻腳：

$$4 \times 6 = 24$$

少了幾隻腳：

$$30 - 24 = 6$$

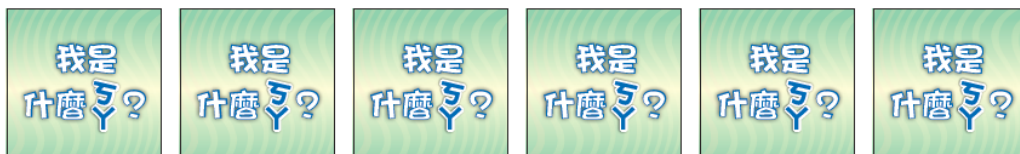
6 隻腳比 4 隻腳多幾隻腳：

$$6 - 4 = 2$$

將幾隻 4 隻腳換成 6 隻腳：

$$6 \div 2 = 3$$

4 隻腳的數量：



我的動物卡共有 30 隻腳。



菜包拿了 _____ 張 4 隻腳和 _____ 張 6 隻腳的動物卡。

綜合與應用 (二)

附件 14 有 2 隻、4 隻和 6 隻腳的動物卡，兔包、菜包和肉包分別拿了幾張動物卡？根據下面問題填填看。

2 菜包拿了 4 隻腳和 6 隻腳的動物卡 **共 6 張**，有 30 隻腳。

6 張都是 4 隻腳：

$$4 \times 6 = 24$$

少了幾隻腳：

$$30 - 24 = 6$$

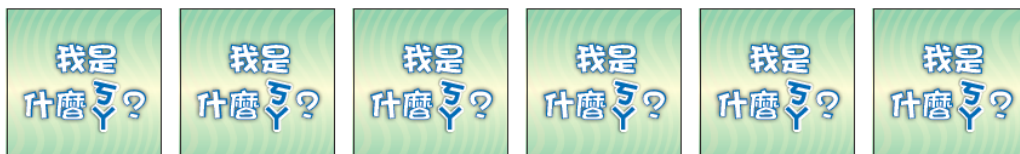
6 隻腳比 4 隻腳多幾隻腳：

$$6 - 4 = 2$$

將幾隻 4 隻腳換成 6 隻腳：

$$6 \div 2 = 3$$

4 隻腳的數量：



我的動物卡共有 30 隻腳。



菜包拿了 _____ 張 4 隻腳和 _____ 張 6 隻腳的動物卡。

綜合與應用 (二)

附件 14 有 2 隻、4 隻和 6 隻腳的動物卡，兔包、菜包和肉包分別拿了幾張動物卡？根據下面問題填填看。

2 菜包拿了 4 隻腳和 6 隻腳的動物卡 **共 6 張**，有 30 隻腳。

6 張都是 4 隻腳：

$$4 \times 6 = 24$$

少了幾隻腳：

$$30 - 24 = 6$$

6 隻腳比 4 隻腳多幾隻腳：

$$6 - 4 = 2$$

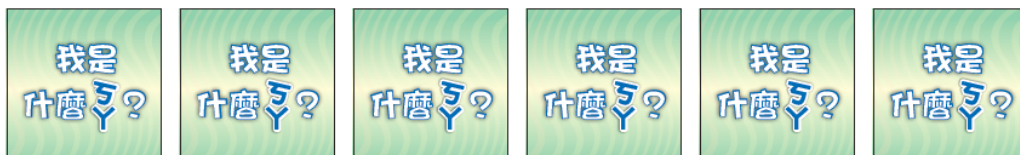
將幾隻 4 隻腳換成 6 隻腳：

$$6 \div 2 = 3$$

4 隻腳的數量：

6

菜包拿了 _____ 張 4 隻腳和 _____ 張 6 隻腳的動物卡。



我的動物卡共有 30 隻腳。



綜合與應用 (二)

附件 14 有 2 隻、4 隻和 6 隻腳的動物卡，兔包、菜包和肉包分別拿了幾張動物卡？根據下面問題填填看。

2 菜包拿了 4 隻腳和 6 隻腳的動物卡共 6 張，有 30 隻腳。

6 張都是 4 隻腳：

$$4 \times 6 = 24$$

少了幾隻腳：

$$30 - 24 = 6$$

6 隻腳比 4 隻腳多幾隻腳：

$$6 - 4 = 2$$

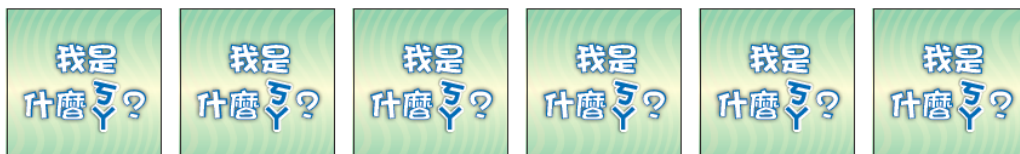
將幾隻 4 隻腳換成 6 隻腳：

$$6 \div 2 = 3$$

4 隻腳的數量：

6

菜包拿了 _____ 張 4 隻腳和 _____ 張 6 隻腳的動物卡。



我的動物卡共有 30 隻腳。



綜合與應用 (二)

附件 14 有 2 隻、4 隻和 6 隻腳的動物卡，兔包、菜包和肉包分別拿了幾張動物卡？根據下面問題填填看。

2 菜包拿了 4 隻腳和 6 隻腳的動物卡共 6 張，有 30 隻腳。

6 張都是 4 隻腳：

$$4 \times 6 = 24$$

少了幾隻腳：

$$30 - 24 = 6$$

6 隻腳比 4 隻腳多幾隻腳：

$$6 - 4 = 2$$

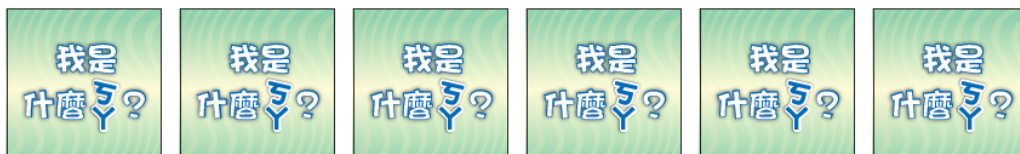
將幾隻 4 隻腳換成 6 隻腳：

$$6 \div 2 = 3$$

4 隻腳的數量：

$$6 - 3$$

菜包拿了 _____ 張 4 隻腳和 _____ 張 6 隻腳的動物卡。



我的動物卡共有 30 隻腳。



綜合與應用 (二)

附件 14 有 2 隻、4 隻和 6 隻腳的動物卡，兔包、菜包和肉包分別拿了幾張動物卡？根據下面問題填填看。

2 菜包拿了 4 隻腳和 6 隻腳的動物卡共 6 張，有 30 隻腳。

6 張都是 4 隻腳：

$$4 \times 6 = 24$$

少了幾隻腳：

$$30 - 24 = 6$$

6 隻腳比 4 隻腳多幾隻腳：

$$6 - 4 = 2$$

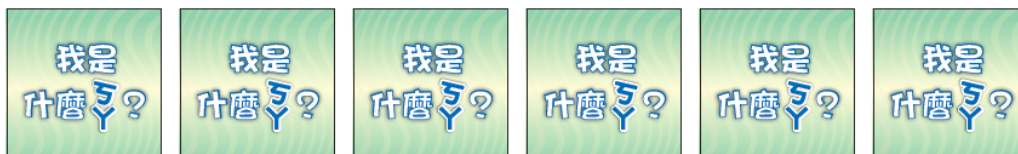
將幾隻 4 隻腳換成 6 隻腳：

$$6 \div 2 = 3$$

4 隻腳的數量：

$$6 - 3 = 3$$

菜包拿了 _____ 張 4 隻腳和 _____ 張 6 隻腳的動物卡。



我的動物卡共有 30 隻腳。



綜合與應用 (二)

附件 14 有 2 隻、4 隻和 6 隻腳的動物卡，兔包、菜包和肉包分別拿了幾張動物卡？根據下面問題填填看。

2 菜包拿了 4 隻腳和 6 隻腳的動物卡共 6 張，有 30 隻腳。

6 張都是 4 隻腳：

$$4 \times 6 = 24$$

少了幾隻腳：

$$30 - 24 = 6$$

6 隻腳比 4 隻腳多幾隻腳：

$$6 - 4 = 2$$

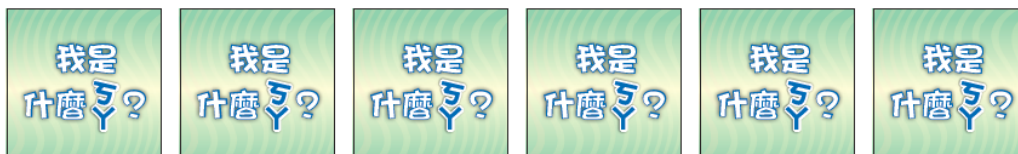
將幾隻 4 隻腳換成 6 隻腳：

$$6 \div 2 = 3$$

4 隻腳的數量：

$$6 - 3 = 3$$

菜包拿了 3 張 4 隻腳和 3 張 6 隻腳的動物卡。



我的動物卡共有 30 隻腳。



綜合與應用 (二)

附件 14 有 2 隻、4 隻和 6 隻腳的動物卡，兔包、菜包和肉包分別拿了幾張動物卡？根據下面問題填填看。

3 肉包拿了 2 隻腳和 6 隻腳的動物卡共 6 張，有 32 隻腳。



我的動物卡共有 32 隻腳。



肉包拿了_____張 2 隻腳和_____張 6 隻腳的動物卡。

綜合與應用 (二)

附件 14 有 2 隻、4 隻和 6 隻腳的動物卡，兔包、菜包和肉包分別拿了幾張動物卡？根據下面問題填填看。

3 肉包拿了 2 隻腳和 6 隻腳的動物卡共 6 張，有 32 隻腳。

6 張都是 2 隻腳：



我的動物卡共有 32 隻腳。



肉包拿了 _____ 張 2 隻腳和 _____ 張 6 隻腳的動物卡。

綜合與應用 (二)

附件 14 有 2 隻、4 隻和 6 隻腳的動物卡，兔包、菜包和肉包分別拿了幾張動物卡？根據下面問題填填看。

3 肉包拿了 2 隻腳和 6 隻腳的動物卡共 6 張，有 32 隻腳。

6 張都是 2 隻腳：
 2×6



我的動物卡共有 32 隻腳。



肉包拿了 _____ 張 2 隻腳和 _____ 張 6 隻腳的動物卡。

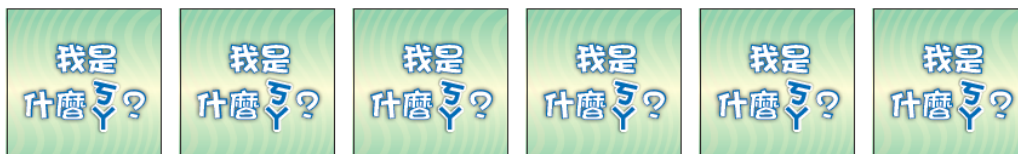
綜合與應用 (二)

附件 14 有 2 隻、4 隻和 6 隻腳的動物卡，兔包、菜包和肉包分別拿了幾張動物卡？根據下面問題填填看。

3 肉包拿了 2 隻腳和 6 隻腳的動物卡共 6 張，有 32 隻腳。

6 張都是 2 隻腳：

$$2 \times 6 = 12$$



我的動物卡共有 32 隻腳。



肉包拿了 _____ 張 2 隻腳和 _____ 張 6 隻腳的動物卡。

綜合與應用 (二)

附件 14 有 2 隻、4 隻和 6 隻腳的動物卡，兔包、菜包和肉包分別拿了幾張動物卡？根據下面問題填填看。

3 肉包拿了 2 隻腳和 6 隻腳的動物卡共 6 張，有 32 隻腳。

6 張都是 2 隻腳：

$$2 \times 6 = 12$$

少了幾隻腳：



我的動物卡共有 32 隻腳。



肉包拿了 _____ 張 2 隻腳和 _____ 張 6 隻腳的動物卡。

綜合與應用 (二)

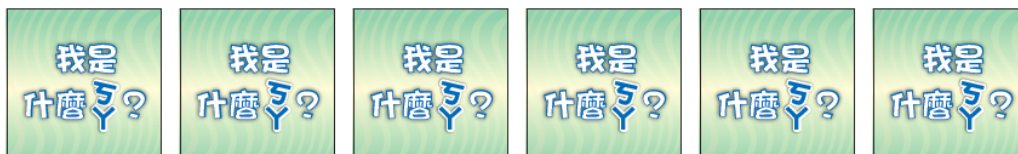
附件 14 有 2 隻、4 隻和 6 隻腳的動物卡，兔包、菜包和肉包分別拿了幾張動物卡？根據下面問題填填看。

3 肉包拿了 2 隻腳和 6 隻腳的動物卡共 6 張，有 32 隻腳。

6 張都是 2 隻腳：

$$2 \times 6 = 12$$

少了幾隻腳：



我的動物卡共有 32 隻腳。



肉包拿了 _____ 張 2 隻腳和 _____ 張 6 隻腳的動物卡。

綜合與應用 (二)

附件 14 有 2 隻、4 隻和 6 隻腳的動物卡，兔包、菜包和肉包分別拿了幾張動物卡？根據下面問題填填看。

3 肉包拿了 2 隻腳和 6 隻腳的動物卡共 6 張，有 32 隻腳。

6 張都是 2 隻腳：

$$2 \times 6 = 12$$

少了幾隻腳：

32



我的動物卡共有 32 隻腳。



肉包拿了_____張 2 隻腳和_____張 6 隻腳的動物卡。

綜合與應用 (二)

附件 14 有 2 隻、4 隻和 6 隻腳的動物卡，兔包、菜包和肉包分別拿了幾張動物卡？根據下面問題填填看。

3 肉包拿了 2 隻腳和 6 隻腳的動物卡共 6 張，有 32 隻腳。

6 張都是 2 隻腳：

$$2 \times 6 = 12$$

少了幾隻腳：

32



我的動物卡共有 32 隻腳。



肉包拿了 _____ 張 2 隻腳和 _____ 張 6 隻腳的動物卡。

綜合與應用 (二)

附件 14 有 2 隻、4 隻和 6 隻腳的動物卡，兔包、菜包和肉包分別拿了幾張動物卡？根據下面問題填填看。

3 肉包拿了 2 隻腳和 6 隻腳的動物卡共 6 張，有 32 隻腳。

6 張都是 2 隻腳：

$$2 \times 6 = 12$$

少了幾隻腳：

$$32 - 12$$



我的動物卡共有 32 隻腳。



肉包拿了 _____ 張 2 隻腳和 _____ 張 6 隻腳的動物卡。

綜合與應用 (二)

附件 14 有 2 隻、4 隻和 6 隻腳的動物卡，兔包、菜包和肉包分別拿了幾張動物卡？根據下面問題填填看。

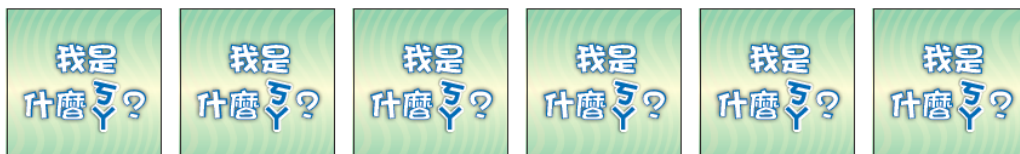
3 肉包拿了 2 隻腳和 6 隻腳的動物卡共 6 張，有 32 隻腳。

6 張都是 2 隻腳：

$$2 \times 6 = 12$$

少了幾隻腳：

$$32 - 12 = 20$$



我的動物卡共有 32 隻腳。



肉包拿了 _____ 張 2 隻腳和 _____ 張 6 隻腳的動物卡。

綜合與應用 (二)

附件 14 有 2 隻、4 隻和 6 隻腳的動物卡，兔包、菜包和肉包分別拿了幾張動物卡？根據下面問題填填看。

3 肉包拿了 2 隻腳和 6 隻腳的動物卡共 6 張，有 32 隻腳。

6 張都是 2 隻腳：

$$2 \times 6 = 12$$

少了幾隻腳：

$$32 - 12 = 20$$

6 隻腳比 2 隻腳多幾隻腳：



我的動物卡共有 32 隻腳。



肉包拿了 _____ 張 2 隻腳和 _____ 張 6 隻腳的動物卡。

綜合與應用 (二)

附件 14 有 2 隻、4 隻和 6 隻腳的動物卡，兔包、菜包和肉包分別拿了幾張動物卡？根據下面問題填填看。

3 肉包拿了 2 隻腳和 6 隻腳的動物卡共 6 張，有 32 隻腳。

6 張都是 2 隻腳：

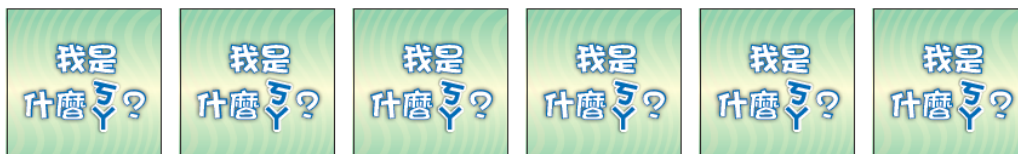
$$2 \times 6 = 12$$

少了幾隻腳：

$$32 - 12 = 20$$

6 隻腳比 2 隻腳多幾隻腳：

$$6 - 2$$



我的動物卡共有 32 隻腳。



肉包拿了 _____ 張 2 隻腳和 _____ 張 6 隻腳的動物卡。

綜合與應用 (二)

附件 14 有 2 隻、4 隻和 6 隻腳的動物卡，兔包、菜包和肉包分別拿了幾張動物卡？根據下面問題填填看。

3 肉包拿了 2 隻腳和 6 隻腳的動物卡共 6 張，有 32 隻腳。

6 張都是 2 隻腳：

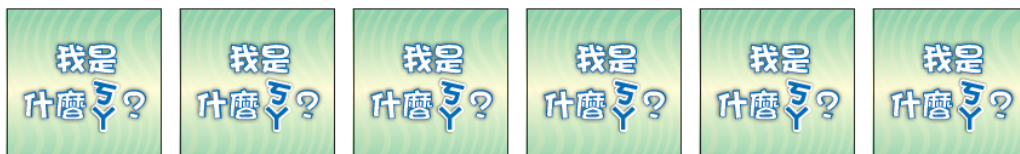
$$2 \times 6 = 12$$

少了幾隻腳：

$$32 - 12 = 20$$

6 隻腳比 2 隻腳多幾隻腳：

$$6 - 2 = 4$$



我的動物卡共有 32 隻腳。



肉包拿了 _____ 張 2 隻腳和 _____ 張 6 隻腳的動物卡。

綜合與應用 (二)

附件 14 有 2 隻、4 隻和 6 隻腳的動物卡，兔包、菜包和肉包分別拿了幾張動物卡？根據下面問題填填看。

3 肉包拿了 2 隻腳和 6 隻腳的動物卡共 6 張，有 32 隻腳。

6 張都是 2 隻腳：

$$2 \times 6 = 12$$

少了幾隻腳：

$$32 - 12 = 20$$

6 隻腳比 2 隻腳多幾隻腳：

$$6 - 2 = 4$$

將幾隻 2 隻腳換成 6 隻腳：



我的動物卡共有 32 隻腳。



肉包拿了 _____ 張 2 隻腳和 _____ 張 6 隻腳的動物卡。

綜合與應用 (二)

附件 14 有 2 隻、4 隻和 6 隻腳的動物卡，兔包、菜包和肉包分別拿了幾張動物卡？根據下面問題填填看。

3 肉包拿了 2 隻腳和 6 隻腳的動物卡共 6 張，有 32 隻腳。

6 張都是 2 隻腳：

$$2 \times 6 = 12$$

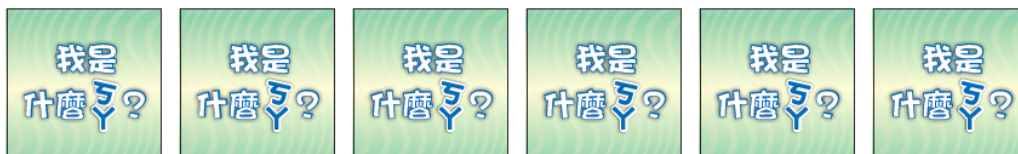
少了幾隻腳：

$$32 - 12 = 20$$

6 隻腳比 2 隻腳多幾隻腳：

$$6 - 2 = 4$$

將幾隻 2 隻腳換成 6 隻腳：



我的動物卡共有 32 隻腳。



肉包拿了 _____ 張 2 隻腳和 _____ 張 6 隻腳的動物卡。

綜合與應用 (二)

附件 14 有 2 隻、4 隻和 6 隻腳的動物卡，兔包、菜包和肉包分別拿了幾張動物卡？根據下面問題填填看。

3 肉包拿了 2 隻腳和 6 隻腳的動物卡共 6 張，有 32 隻腳。

6 張都是 2 隻腳：

$$2 \times 6 = 12$$

少了幾隻腳：

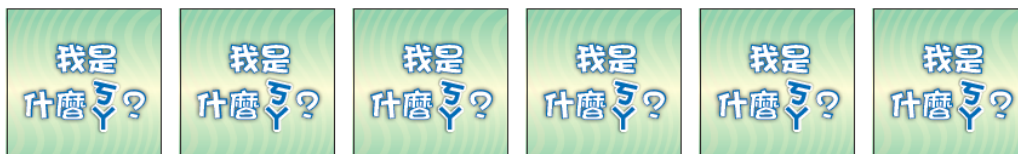
$$32 - 12 = 20$$

6 隻腳比 2 隻腳多幾隻腳：

$$6 - 2 = 4$$

將幾隻 2 隻腳換成 6 隻腳：

$$20$$



我的動物卡共有 32 隻腳。



肉包拿了 _____ 張 2 隻腳和 _____ 張 6 隻腳的動物卡。

綜合與應用 (二)

附件 14 有 2 隻、4 隻和 6 隻腳的動物卡，兔包、菜包和肉包分別拿了幾張動物卡？根據下面問題填填看。

3 肉包拿了 2 隻腳和 6 隻腳的動物卡共 6 張，有 32 隻腳。

6 張都是 2 隻腳：

$$2 \times 6 = 12$$

少了幾隻腳：

$$32 - 12 = 20$$

6 隻腳比 2 隻腳多幾隻腳：

$$6 - 2 = 4$$

將幾隻 2 隻腳換成 6 隻腳：

$$20$$



我的動物卡共有 32 隻腳。



肉包拿了 _____ 張 2 隻腳和 _____ 張 6 隻腳的動物卡。

綜合與應用 (二)

附件 14 有 2 隻、4 隻和 6 隻腳的動物卡，兔包、菜包和肉包分別拿了幾張動物卡？根據下面問題填填看。

3 肉包拿了 2 隻腳和 6 隻腳的動物卡共 6 張，有 32 隻腳。

6 張都是 2 隻腳：

$$2 \times 6 = 12$$

少了幾隻腳：

$$32 - 12 = 20$$

6 隻腳比 2 隻腳多幾隻腳：

$$6 - 2 = 4$$

將幾隻 2 隻腳換成 6 隻腳：

$$20 \div 4$$



我的動物卡共有 32 隻腳。



肉包拿了 _____ 張 2 隻腳和 _____ 張 6 隻腳的動物卡。

綜合與應用 (二)

附件 14 有 2 隻、4 隻和 6 隻腳的動物卡，兔包、菜包和肉包分別拿了幾張動物卡？根據下面問題填填看。

3 肉包拿了 2 隻腳和 6 隻腳的動物卡共 6 張，有 32 隻腳。

6 張都是 2 隻腳：

$$2 \times 6 = 12$$

少了幾隻腳：

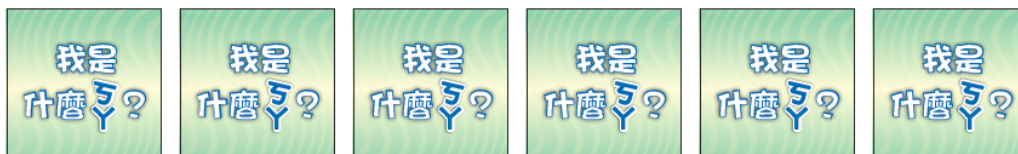
$$32 - 12 = 20$$

6 隻腳比 2 隻腳多幾隻腳：

$$6 - 2 = 4$$

將幾隻 2 隻腳換成 6 隻腳：

$$20 \div 4 = 5$$



我的動物卡共有 32 隻腳。



肉包拿了 _____ 張 2 隻腳和 _____ 張 6 隻腳的動物卡。

綜合與應用 (二)

附件 14 有 2 隻、4 隻和 6 隻腳的動物卡，兔包、菜包和肉包分別拿了幾張動物卡？根據下面問題填填看。

3 肉包拿了 2 隻腳和 6 隻腳的動物卡共 6 張，有 32 隻腳。

6 張都是 2 隻腳：

$$2 \times 6 = 12$$

少了幾隻腳：

$$32 - 12 = 20$$

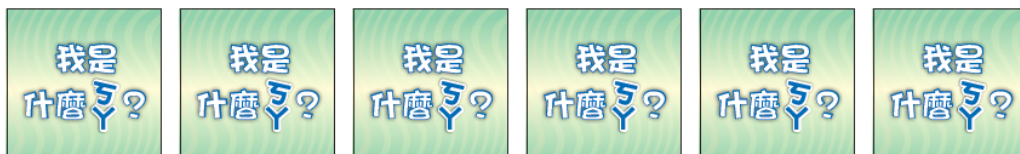
6 隻腳比 2 隻腳多幾隻腳：

$$6 - 2 = 4$$

將幾隻 2 隻腳換成 6 隻腳：

$$20 \div 4 = 5$$

2 隻腳的數量：



我的動物卡共有 32 隻腳。



肉包拿了 _____ 張 2 隻腳和 _____ 張 6 隻腳的動物卡。

綜合與應用 (二)

附件 14 有 2 隻、4 隻和 6 隻腳的動物卡，兔包、菜包和肉包分別拿了幾張動物卡？根據下面問題填填看。

3 肉包拿了 2 隻腳和 6 隻腳的動物卡 **共 6 張**，有 32 隻腳。

6 張都是 2 隻腳：

$$2 \times 6 = 12$$

少了幾隻腳：

$$32 - 12 = 20$$

6 隻腳比 2 隻腳多幾隻腳：

$$6 - 2 = 4$$

將幾隻 2 隻腳換成 6 隻腳：

$$20 \div 4 = 5$$

2 隻腳的數量：



我的動物卡共有 32 隻腳。



肉包拿了 _____ 張 2 隻腳和 _____ 張 6 隻腳的動物卡。

綜合與應用 (二)

附件 14 有 2 隻、4 隻和 6 隻腳的動物卡，兔包、菜包和肉包分別拿了幾張動物卡？根據下面問題填填看。

3 肉包拿了 2 隻腳和 6 隻腳的動物卡 **共 6 張**，有 32 隻腳。

6 張都是 2 隻腳：

$$2 \times 6 = 12$$

少了幾隻腳：

$$32 - 12 = 20$$

6 隻腳比 2 隻腳多幾隻腳：

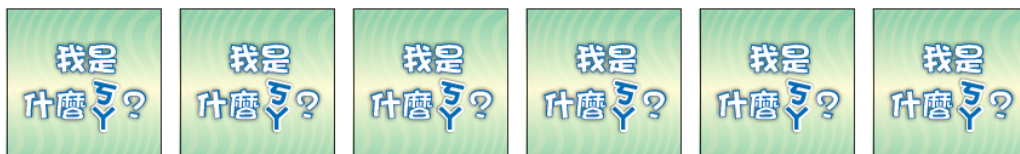
$$6 - 2 = 4$$

將幾隻 2 隻腳換成 6 隻腳：

$$20 \div 4 = 5$$

2 隻腳的數量：

6



我的動物卡共有 32 隻腳。



肉包拿了 _____ 張 2 隻腳和 _____ 張 6 隻腳的動物卡。

綜合與應用 (二)

附件 14 有 2 隻、4 隻和 6 隻腳的動物卡，兔包、菜包和肉包分別拿了幾張動物卡？根據下面問題填填看。

3 肉包拿了 2 隻腳和 6 隻腳的動物卡共 6 張，有 32 隻腳。

6 張都是 2 隻腳：

$$2 \times 6 = 12$$

少了幾隻腳：

$$32 - 12 = 20$$

6 隻腳比 2 隻腳多幾隻腳：

$$6 - 2 = 4$$

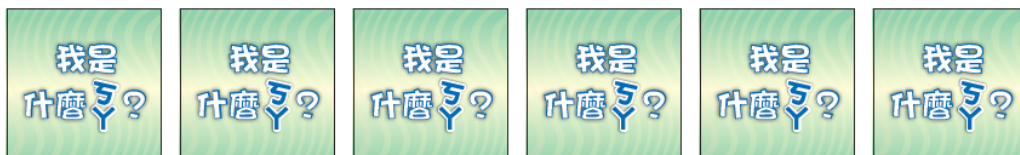
將幾隻 2 隻腳換成 6 隻腳：

$$20 \div 4 = 5$$

2 隻腳的數量：

6

肉包拿了 _____ 張 2 隻腳和 _____ 張 6 隻腳的動物卡。



我的動物卡共有 32 隻腳。



綜合與應用 (二)

附件 14 有 2 隻、4 隻和 6 隻腳的動物卡，兔包、菜包和肉包分別拿了幾張動物卡？根據下面問題填填看。

3 肉包拿了 2 隻腳和 6 隻腳的動物卡共 6 張，有 32 隻腳。

6 張都是 2 隻腳：

$$2 \times 6 = 12$$

少了幾隻腳：

$$32 - 12 = 20$$

6 隻腳比 2 隻腳多幾隻腳：

$$6 - 2 = 4$$

將幾隻 2 隻腳換成 6 隻腳：

$$20 \div 4 = 5$$

2 隻腳的數量：

$$6 - 5$$

肉包拿了 _____ 張 2 隻腳和 _____ 張 6 隻腳的動物卡。



我的動物卡共有 32 隻腳。



綜合與應用 (二)

附件 14 有 2 隻、4 隻和 6 隻腳的動物卡，兔包、菜包和肉包分別拿了幾張動物卡？根據下面問題填填看。

3 肉包拿了 2 隻腳和 6 隻腳的動物卡共 6 張，有 32 隻腳。

6 張都是 2 隻腳：

$$2 \times 6 = 12$$

少了幾隻腳：

$$32 - 12 = 20$$

6 隻腳比 2 隻腳多幾隻腳：

$$6 - 2 = 4$$

將幾隻 2 隻腳換成 6 隻腳：

$$20 \div 4 = 5$$

2 隻腳的數量：

$$6 - 5 = 1$$

肉包拿了 _____ 張 2 隻腳和 _____ 張 6 隻腳的動物卡。



我的動物卡共有 32 隻腳。



綜合與應用 (二)

附件 14 有 2 隻、4 隻和 6 隻腳的動物卡，兔包、菜包和肉包分別拿了幾張動物卡？根據下面問題填填看。

3 肉包拿了 2 隻腳和 6 隻腳的動物卡共 6 張，有 32 隻腳。

6 張都是 2 隻腳：

$$2 \times 6 = 12$$

少了幾隻腳：

$$32 - 12 = 20$$

6 隻腳比 2 隻腳多幾隻腳：

$$6 - 2 = 4$$

將幾隻 2 隻腳換成 6 隻腳：

$$20 \div 4 = 5$$

2 隻腳的數量：

$$6 - 5 = 1$$

肉包拿了 1 張 2 隻腳和 5 張 6 隻腳的動物卡。



我的動物卡共有 32 隻腳。



綜合與應用 (二)

附件 14 有 2 隻、4 隻和 6 隻腳的動物卡，兔包、菜包和肉包分別拿了幾張動物卡？根據下面問題填填看。

3~4 人一組，拿出附件 14，
一起玩「雞飛狗跳」的遊戲。

