

3

認識圓錐的底面和側面

搭配課本頁數 P129

拿出附件 20 和 21 的圓錐，如下圖，做做看。

認識圓錐的底面和側面

搭配課本頁數 P129

3

拿出附件 20 和 21 的圓錐，如下圖，做做看。

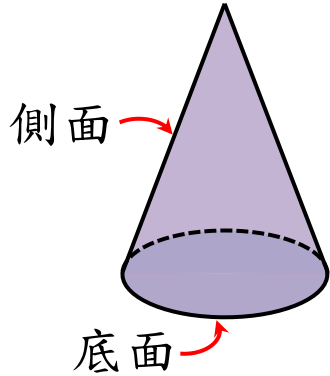
① 將圓錐剪開再攤平，並標上甲、乙的記號。

3

認識圓錐的底面和側面

拿出附件 20 和 21 的圓錐，如下圖，做做看。

① 將圓錐剪開再攤平，並標上甲、乙的記號。

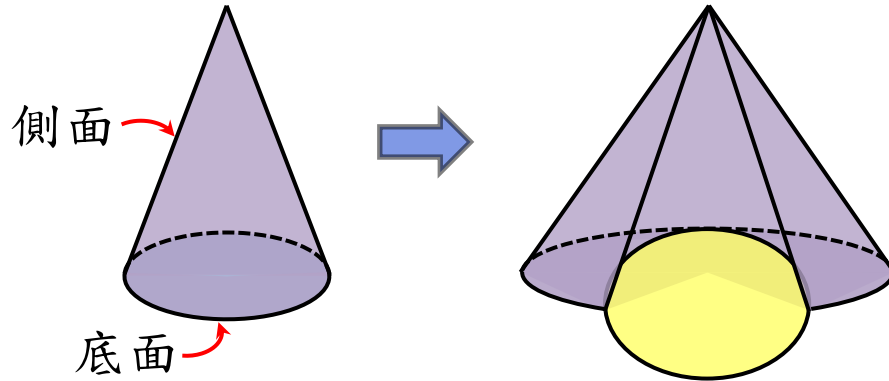


3

認識圓錐的底面和側面

拿出附件 20 和 21 的圓錐，如下圖，做做看。

① 將圓錐剪開再攤平，並標上甲、乙的記號。

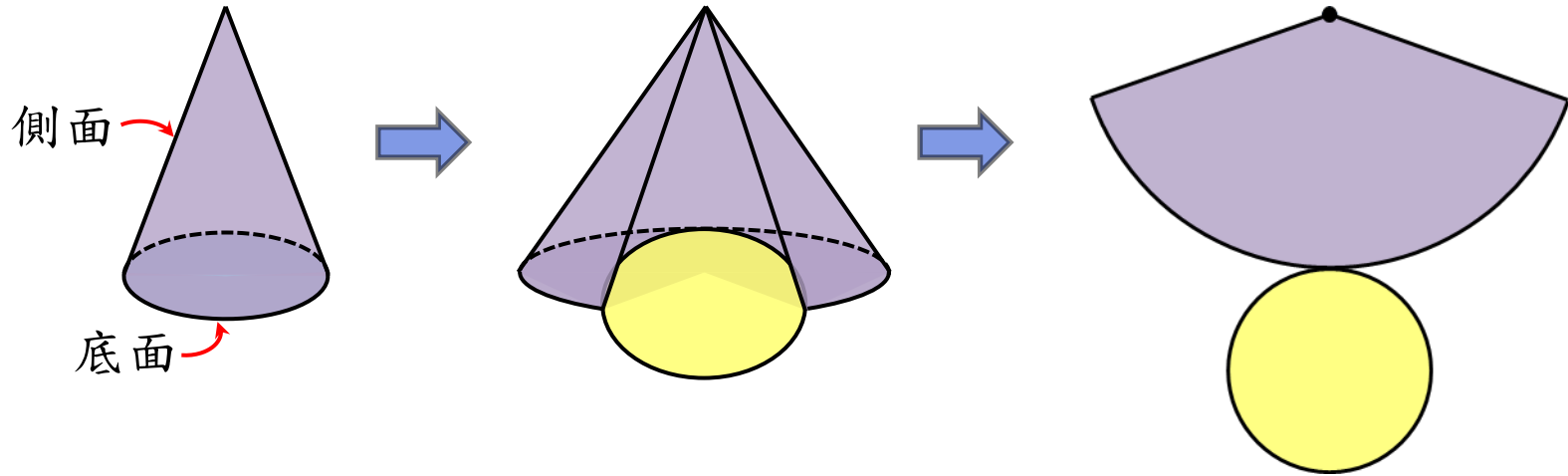


3

認識圓錐的底面和側面

拿出附件 20 和 21 的圓錐，如下圖，做做看。

① 將圓錐剪開再攤平，並標上甲、乙的記號。



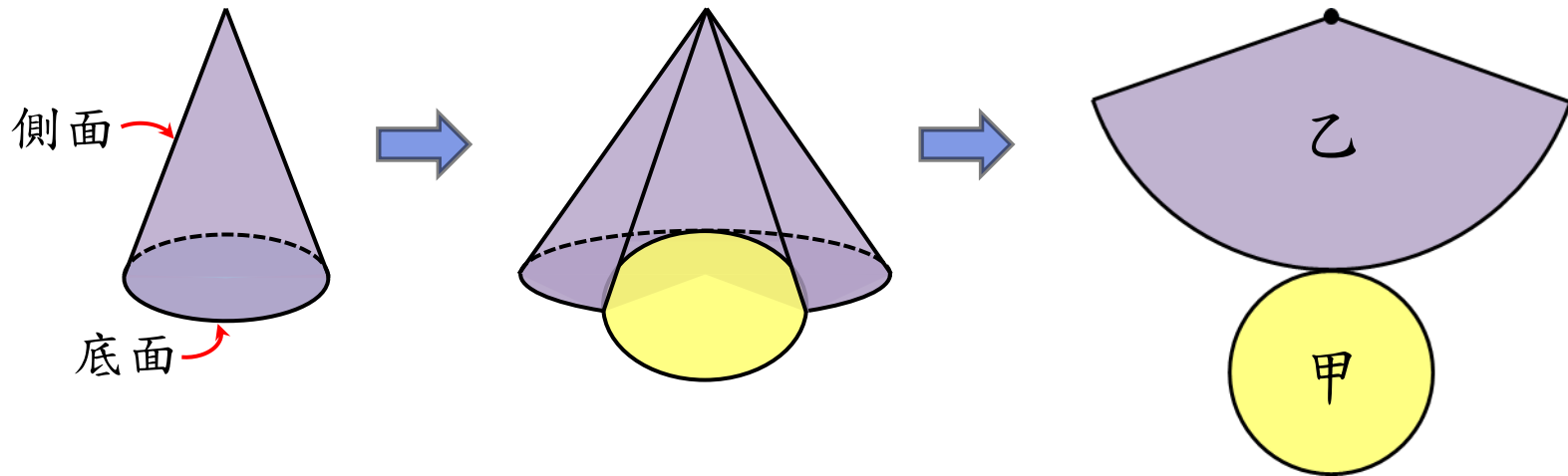
3

認識圓錐的底面和側面

搭配課本頁數 P129

拿出附件 20 和 21 的圓錐，如下圖，做做看。

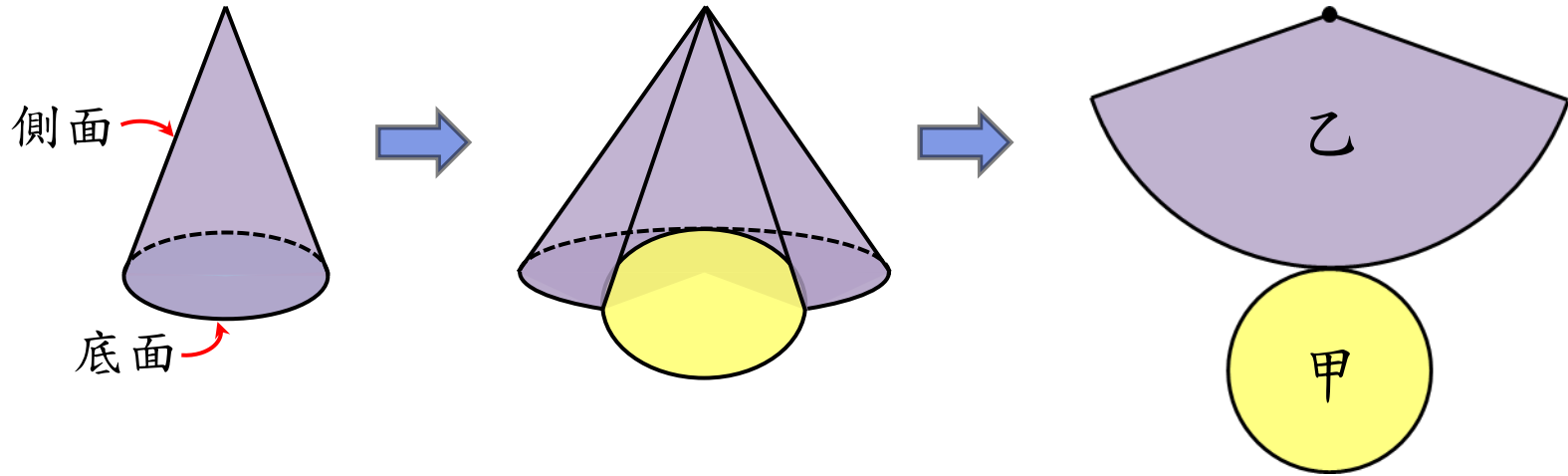
① 將圓錐剪開再攤平，並標上甲、乙的記號。



3

認識圓錐的底面和側面

拿出附件 20 和 21 的圓錐，如下圖，做做看。

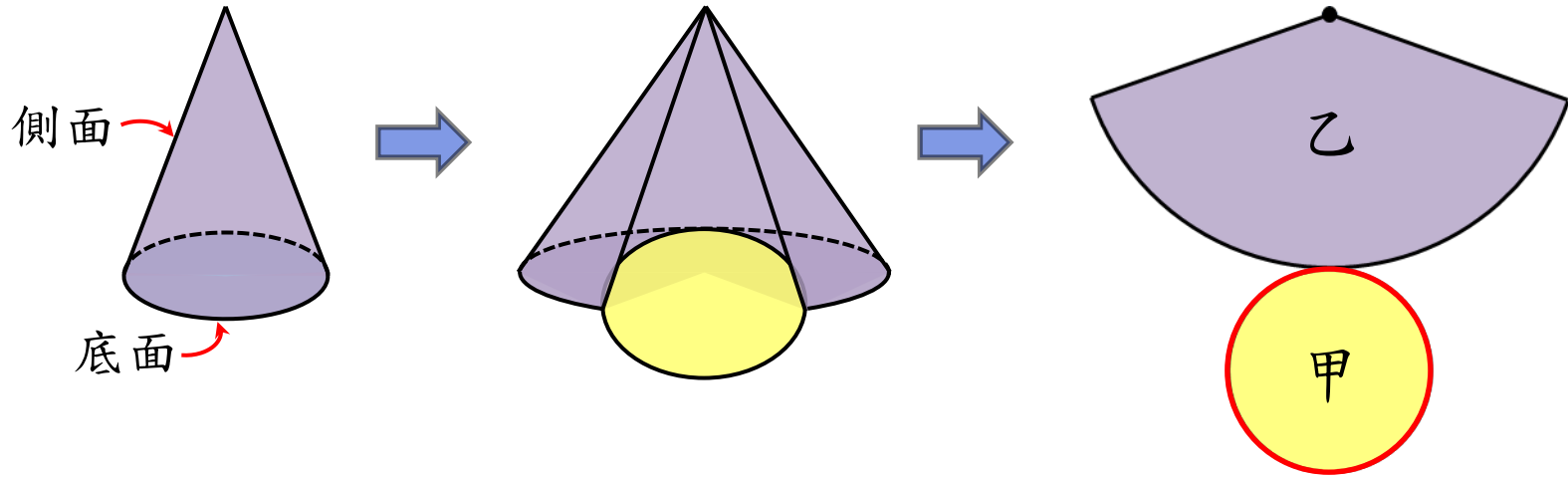


2 甲是不是圓錐的底面？乙攤平後是不是圓錐的側面展開圖？乙是什麼形狀？

3

認識圓錐的底面和側面

拿出附件 20 和 21 的圓錐，如下圖，做做看。

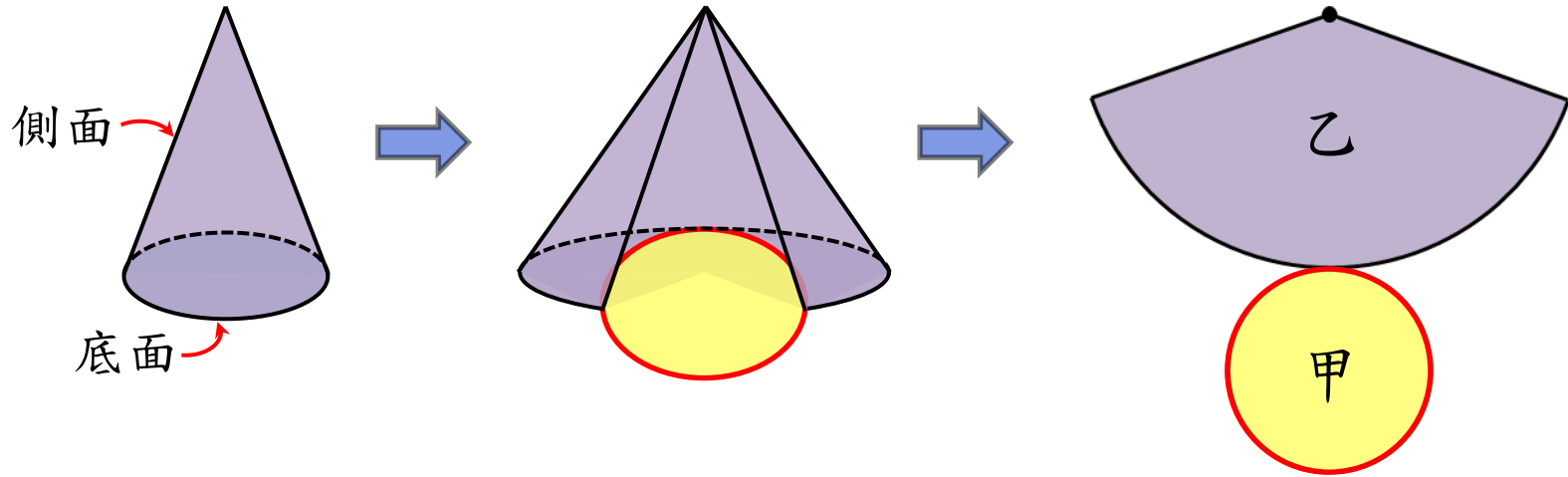


2 甲是不是圓錐的底面？乙攤平後是不是圓錐的側面展開圖？乙是什麼形狀？

3

認識圓錐的底面和側面

拿出附件 20 和 21 的圓錐，如下圖，做做看。



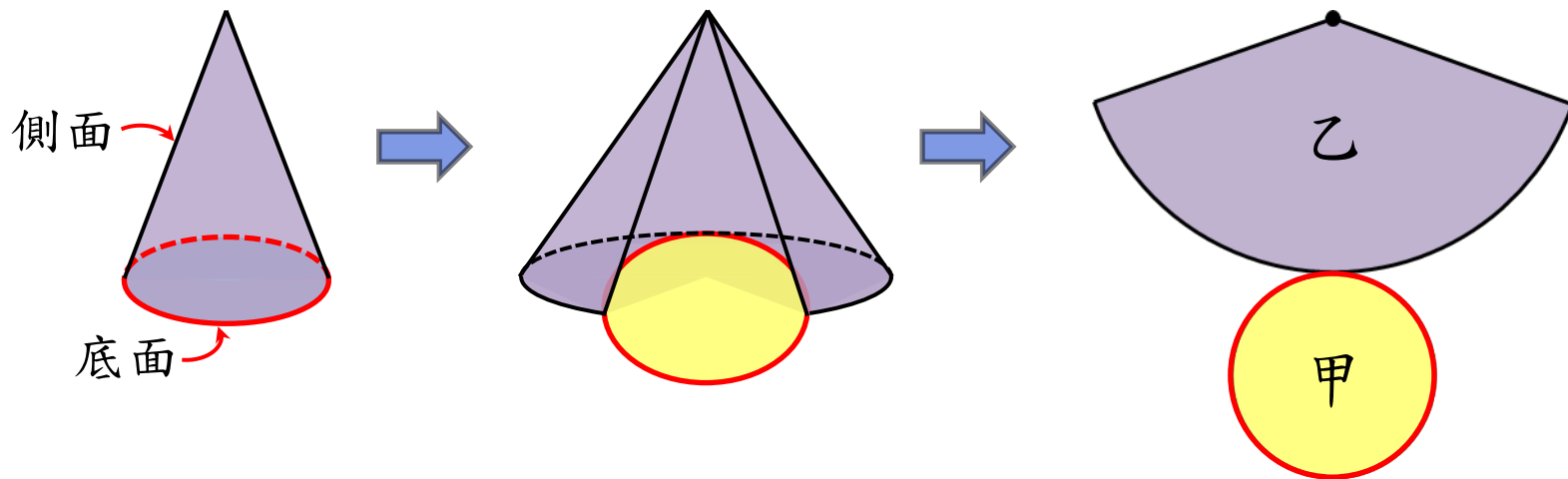
- 2 甲是不是圓錐的底面？乙攤平後是不是圓錐的側面展開圖？乙是什麼形狀？

3

認識圓錐的底面和側面

搭配課本頁數 P129

拿出附件 20 和 21 的圓錐，如下圖，做做看。

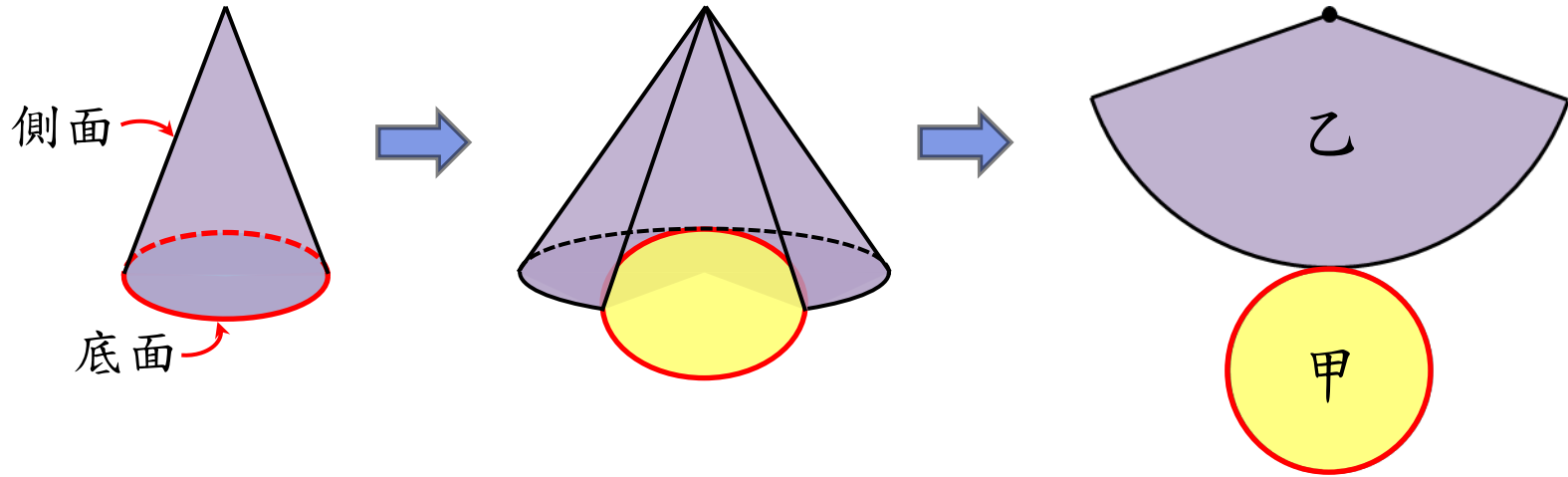


2 甲是不是圓錐的底面？乙攤平後是不是圓錐的側面展開圖？乙是什麼形狀？

3

認識圓錐的底面和側面

拿出附件 20 和 21 的圓錐，如下圖，做做看。



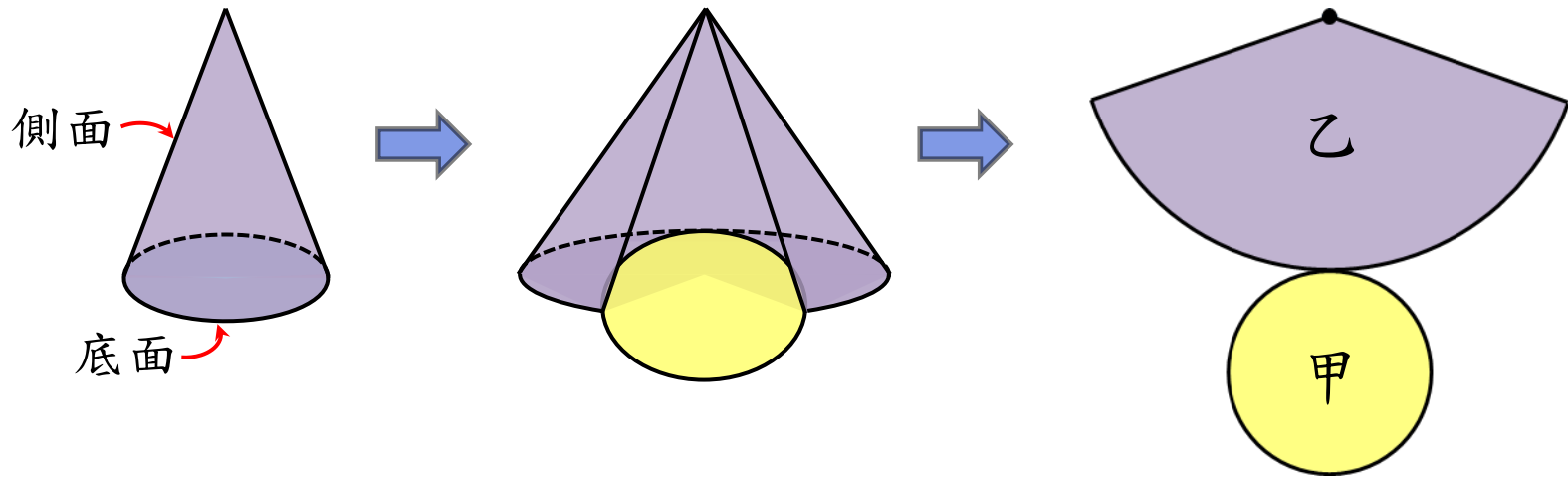
2 甲是不是圓錐的底面？乙攤平後是不是圓錐的側面展開圖？乙是什麼形狀？

甲是圓錐的底面。

3

認識圓錐的底面和側面

拿出附件 20 和 21 的圓錐，如下圖，做做看。



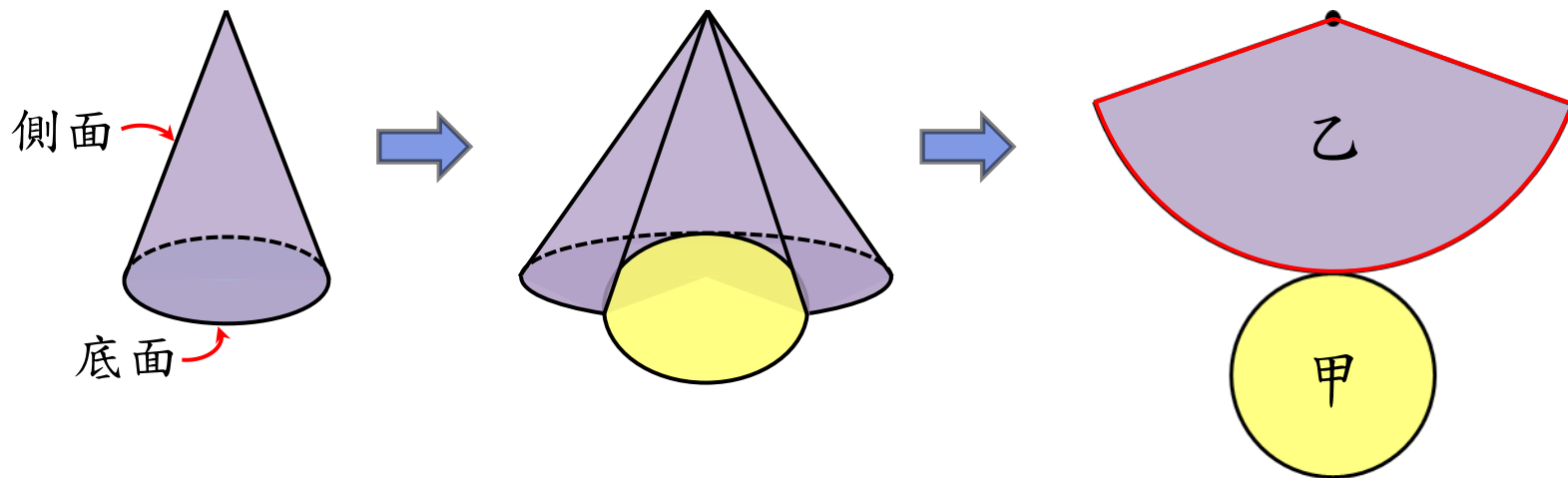
- 2 甲是不是圓錐的底面？乙攤平後是不是圓錐的側面展開圖？乙是什麼形狀？

3

認識圓錐的底面和側面

搭配課本頁數 P129

拿出附件 20 和 21 的圓錐，如下圖，做做看。

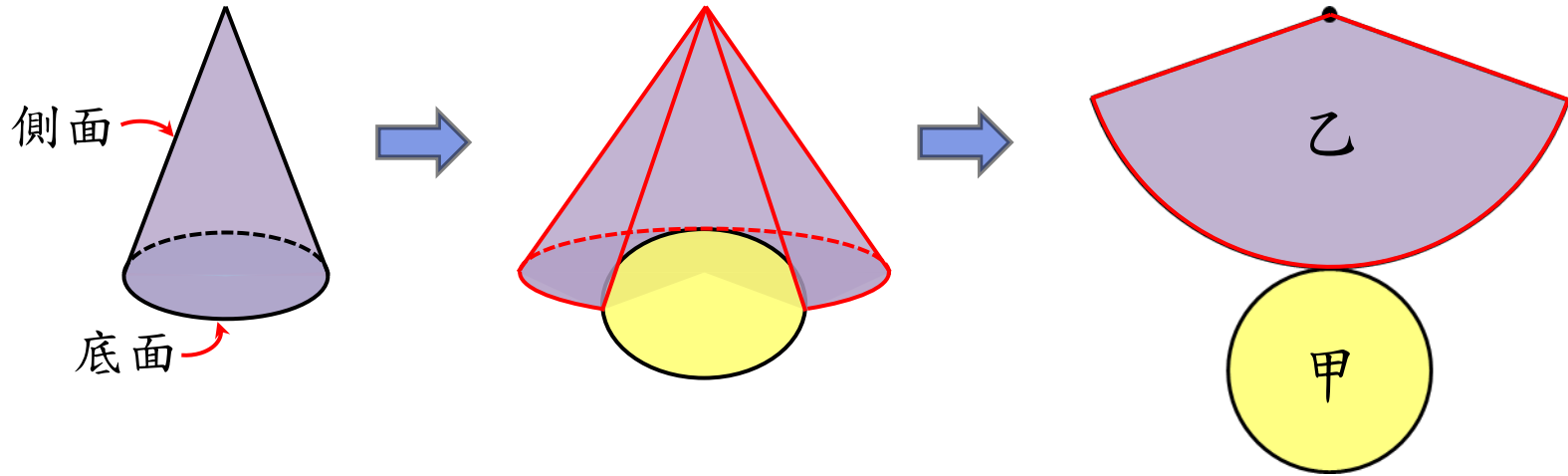


- 2 甲是不是圓錐的底面？乙攤平後是不是圓錐的側面展開圖？乙是什麼形狀？

3

認識圓錐的底面和側面

拿出附件 20 和 21 的圓錐，如下圖，做做看。



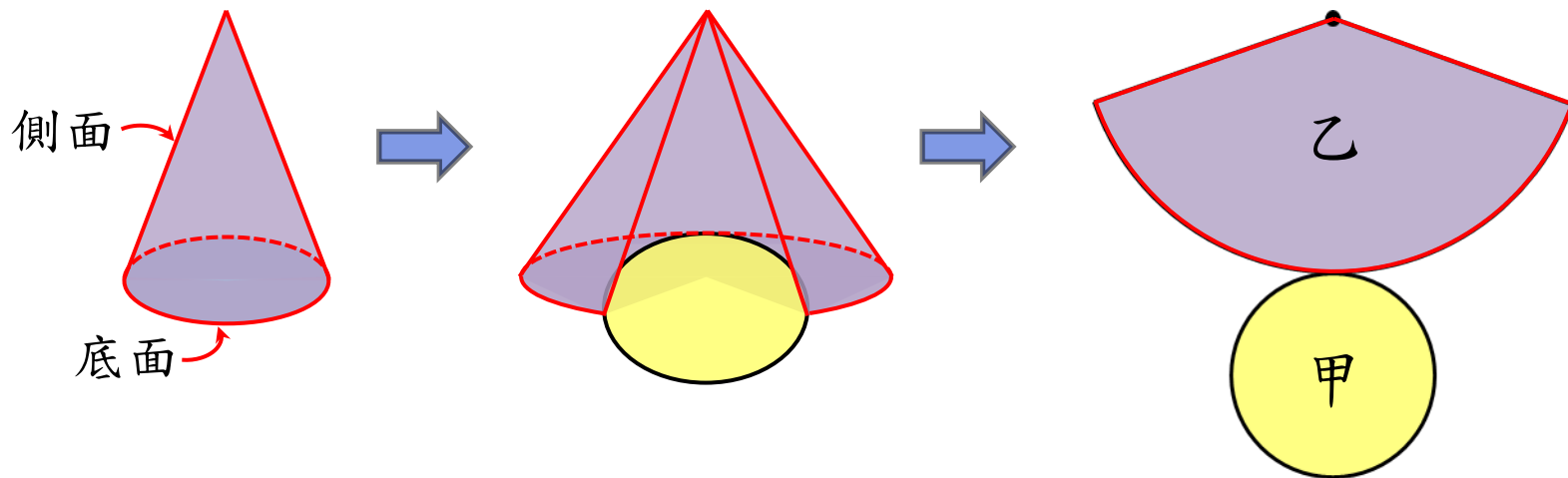
- 2 甲是不是圓錐的底面？乙攤平後是不是圓錐的側面展開圖？乙是什麼形狀？

3

認識圓錐的底面和側面

搭配課本頁數 P129

拿出附件 20 和 21 的圓錐，如下圖，做做看。



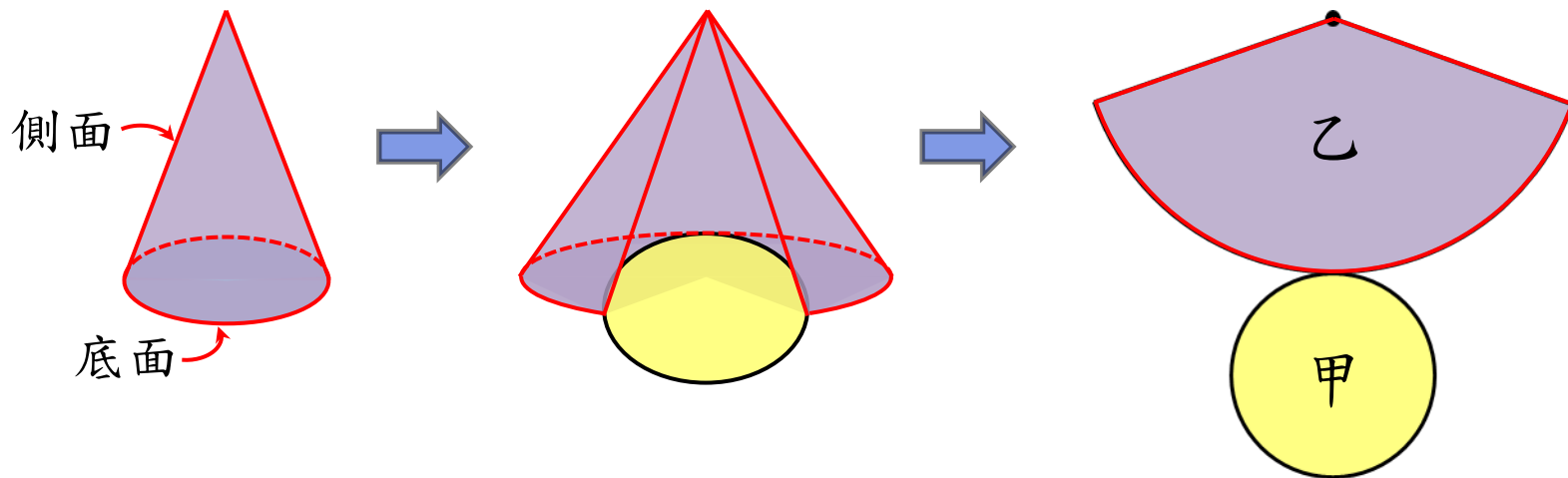
- 2 甲是不是圓錐的底面？乙攤平後是不是圓錐的側面展開圖？乙是什麼形狀？

3

認識圓錐的底面和側面

搭配課本頁數 P129

拿出附件 20 和 21 的圓錐，如下圖，做做看。



2 甲是不是圓錐的底面？乙攤平後是不是圓錐的側面展開圖？乙是什麼形狀？

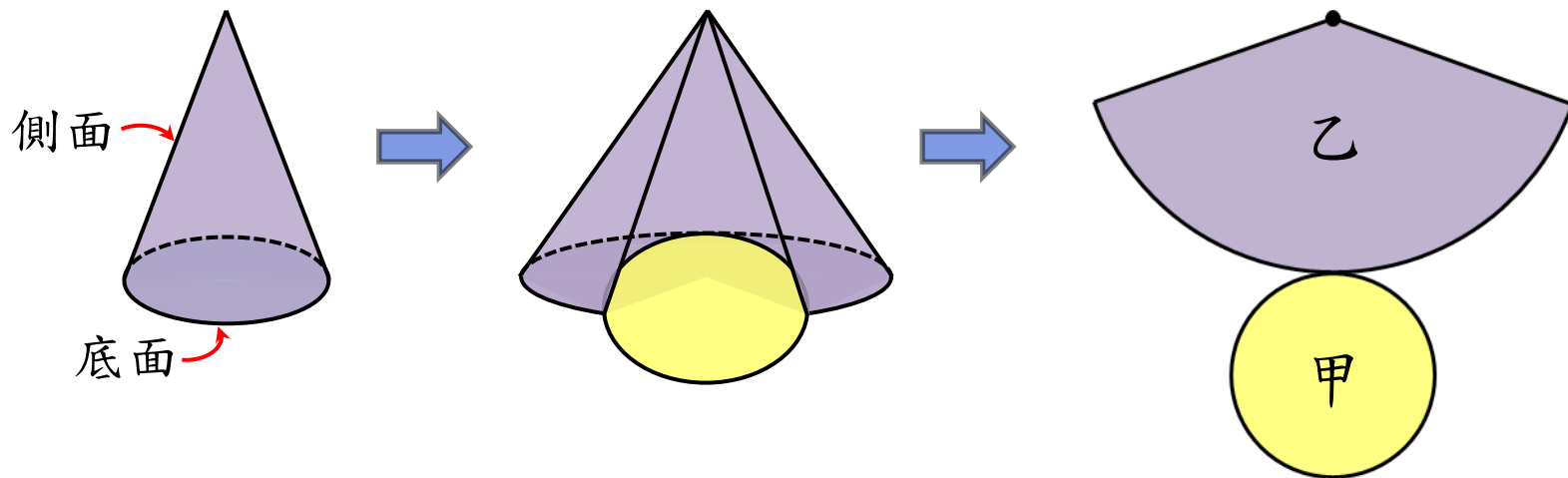
乙是圓錐的側面展開圖。

3

認識圓錐的底面和側面

搭配課本頁數 P129

拿出附件 20 和 21 的圓錐，如下圖，做做看。



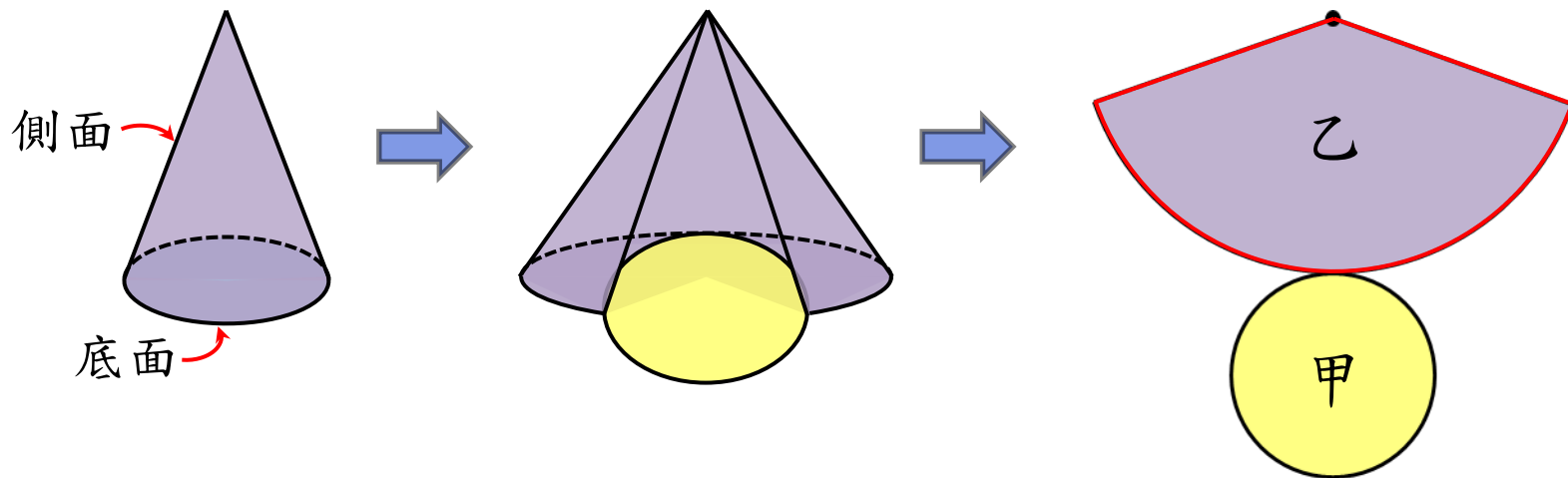
- 2 甲是不是圓錐的底面？乙攤平後是不是圓錐的側面展開圖？乙是什麼形狀？

3

認識圓錐的底面和側面

搭配課本頁數 P129

拿出附件 20 和 21 的圓錐，如下圖，做做看。



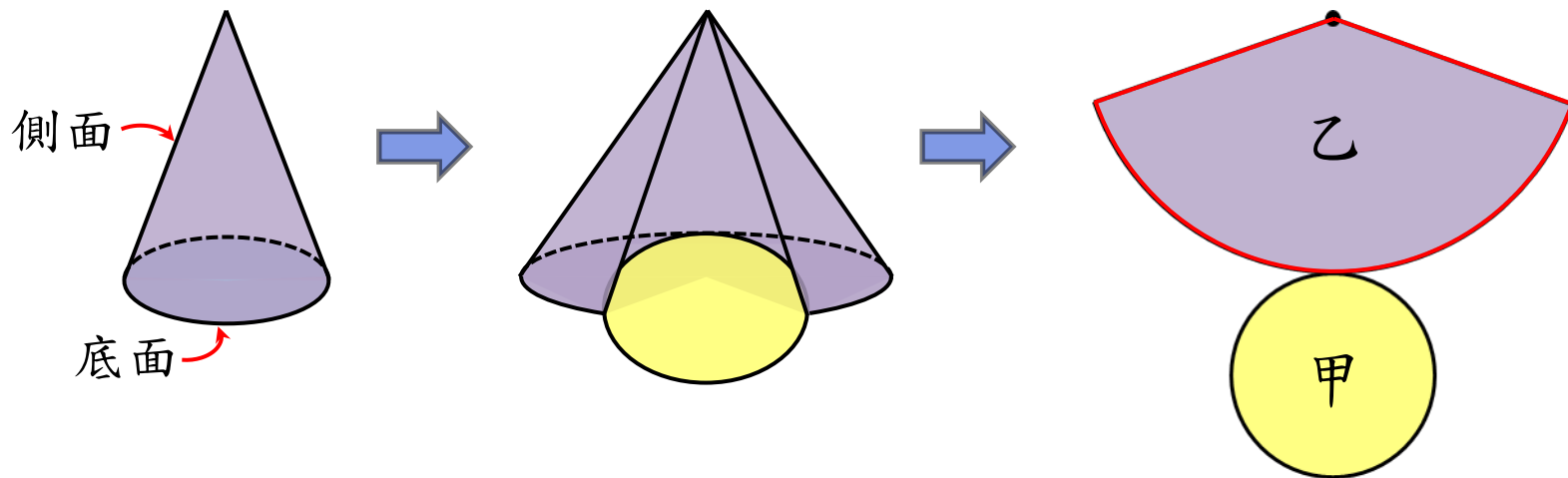
- 2 甲是不是圓錐的底面？乙攤平後是不是圓錐的側面展開圖？乙是什麼形狀？

3

認識圓錐的底面和側面

搭配課本頁數 P129

拿出附件 20 和 21 的圓錐，如下圖，做做看。



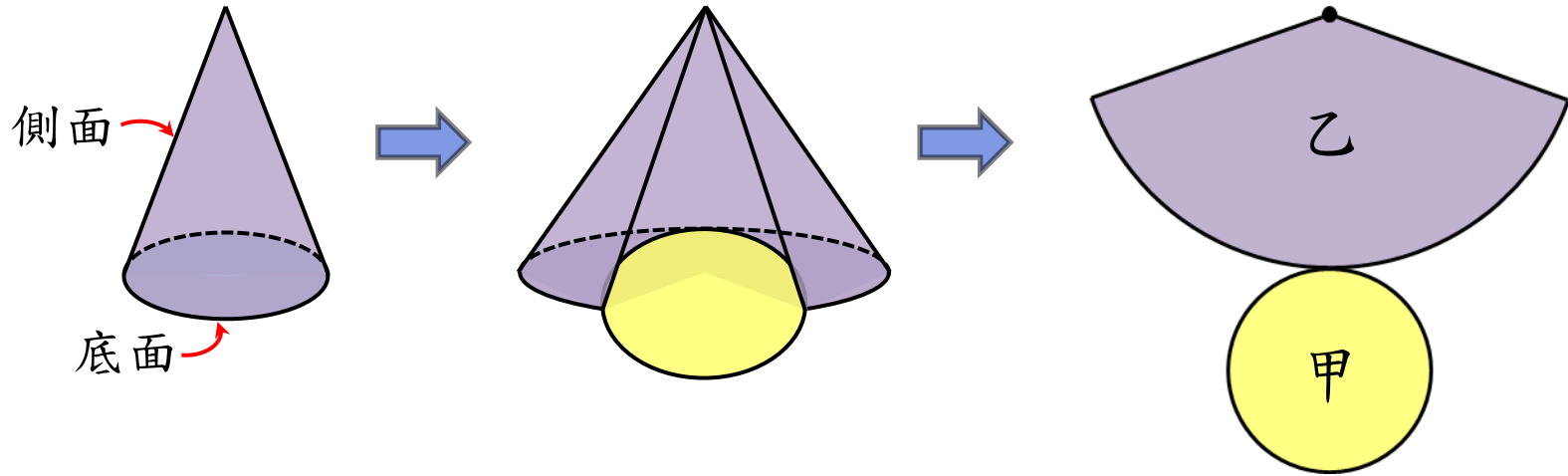
2 甲是不是圓錐的底面？乙攤平後是不是圓錐的側面展開圖？乙是什麼形狀？

乙是扇形。

3

認識圓錐的底面和側面

拿出附件 20 和 21 的圓錐，如下圖，做做看。



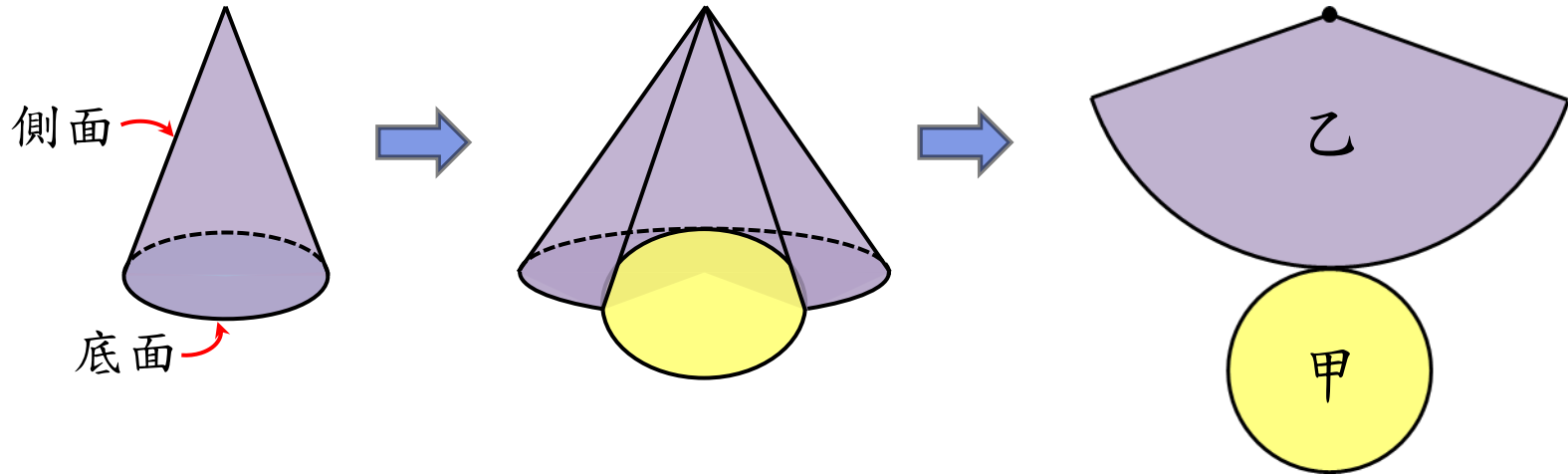
2 甲是不是圓錐的底面？乙攤平後是不是圓錐的側面展開圖？乙是什麼形狀？

答：是；是；扇形。

3

認識圓錐的底面和側面

拿出附件 20 和 21 的圓錐，如下圖，做做看。



圓錐的底面是一個圓，圓錐的側面可以想成一個扇形捲成的錐筒。