


▶ 隨堂練習

搭配課本頁數 P25


有 30 顆蘋果，要平分成幾盒，  
才剛好分完？  
(請寫出所有可能的答案)



▶ 隨堂練習

搭配課本頁數 P25

有 30 顆蘋果，要平分成幾盒，  
才剛好分完？  
(請寫出所有可能的答案)




$$30 = 1 \times 30$$



## 隨堂練習

搭配課本頁數 P25

有 30 顆蘋果，要平分成幾盒，  
才剛好分完？  
(請寫出所有可能的答案)




$$\begin{aligned} 30 &= 1 \times 30 \\ &= 2 \times 15 \end{aligned}$$

## ▶ 隨堂練習

搭配課本頁數 P25

有 30 顆蘋果，要平分成幾盒，  
才剛好分完？  
(請寫出所有可能的答案)



$$30 = 1 \times 30$$

$$= 2 \times 15$$


$$= 3 \times 10$$



## 隨堂練習

搭配課本頁數 P25

有 30 顆蘋果，要平分成幾盒，  
才剛好分完？  
(請寫出所有可能的答案)



$$30 = 1 \times 30$$

$$= 2 \times 15$$


$$= 3 \times 10$$

$$= 5 \times 6$$

 隨堂練習

搭配課本頁數 P25

有 30 顆蘋果，要平分成幾盒，  
才剛好分完？  
(請寫出所有可能的答案)



$$30 = 1 \times 30$$

$$= 2 \times 15$$

$$= 3 \times 10$$

$$= 5 \times 6$$

答：1 盒、2 盒、3 盒、5 盒、6 盒、10 盒、15 盒、30 盒